

بسم الله الرحمن الرحيم

منطقة شرق غزة التعليمية

وكالة الغوث الدولية - غزة

مدرسة ذكور الشجاعة الابتدائية "ج"

دائرة التربية والتعليم



في الدراسات الإجتماعية للف السادس الابتدائي

اعداد المعلم : رائد أبو نمر

متابعة واشراف:

المختص التربوي

المدير المساعد

مدير المدرسة

أ:فريد اسماعيل أحمد

أ:عبد اللطيف الضابوس

أ: ناجى أبو عزيز

الفصل الدراسي الأول

أكتوبر ٢٠١٨/٢٠١٩

الدرس الأول: مصادر المعرفة الجغرافية

السؤال الأول : أكمل الفراغ بما يناسبه:

- ١- تنقسم مصادر المعرفة الجغرافية إلى و
- ٢- من المصادر التقليدية للمعرفة الجغرافية و و
- ٣- من المصادر الحديثة للمعرفة الجغرافية و و
- ٤- من تطبيقات الاستشعار عن بعد و
- ٥- يتم التقاط الصور الجوية بواسطة و
- ٦- يتم التقاط الصور الفضائية بواسطة و
- ٧- يستطيع الانسان أن ينظر إلى العالم كله أو جزء منه بنظرة واحدة من خلال
- ٨- يستخدم الإنسان الخرائط لأغراض عديدة منها و و
- ٩- هي تمثيل لسطح الأرض كله أ لجزء منه عن طريق الرموز أو ألوان

بهدف تحديد الأماكن والمظاهر الجغرافية

- ١٠- تعطي الخريطة للإنسان فرصة للمقارنة بين الأماكن والمظاهر من حيث و
- ١١- الخريطة ضرورية لتكوين صورة واضحة عن توزيع المناطق على سطح الأرض
- ١٢- من عناصر الخريطة و و و و
- ١٣- يدلنا عنوان الخريطة على وما فيها من
- ١٤- من أمثلة عناوين الخرائط و و
- ١٥- يدل المحتوى على التي تحتويها الخريطة
- ١٦- للخريطة أنواع متعددة منها الخرائط و الخرائط
- ١٧- تدل الألوان في الخريطة الطبيعية على و
- ١٨- الخرائط السياسية تبين أسماء و

- ١٩ - للخرائط استخدامات متعددة منها للتعليم و..... ولإذاعة
- و و..... و.....
- ٢٠ - يستخدم المعلم والطالب الخريطة من أجل
- ٢١ - يستخدم مذيع النشرة الجوية الخريطة من أجل
- ٢٢ - يستخدم الجيش الخرائط في المجالات العسكرية مثل و..... و
- ٢٣ - من عناصر الجو..... و و و و
- ٢٤ - تساعد الخريطة المهندس في و
- ٢٥ - من فوائد الخريطة و و

السؤال الثاني: - ضع علامة (✓) أمام العبارة الصحيحة وعلامة (x) أمام العبارة الخاطئة:-

١. نتيجة التطور السريع في العالم أدى ذلك إلى تنوع مصادر المعرفة الجغرافية ()
٢. تنقسم مصادر المعرفة الجغرافية إلى ثلاثة أنواع ()
٣. من أمثلة المصادر التقليدية الرحلات ()
٤. من تطبيقات الاستشعار عن بعد الصور الجوية والفضائية ()
٥. يتم التقاط الصور الجوية لسطح الأرض بواسطة الكاميرات والطائرات ()
٦. يتم التقاط الصور الجوية لسطح الأرض بواسطة الأقمار الصناعية أو المركبات الفضائية ()
٧. يستطيع الإنسان مشاهدة العالم كله أو جزء منه بنظرة واحدة من خلال الخريطة ()
٨. الخريطة لا تبين المواقع السياسية ()
٩. الخريطة تسهل علينا معرفة جودة أي ظاهرة على سطح الأرض ()
١٠. تمثل الخريطة المظاهر الجغرافية الطبيعية عن طريق الرموز ()
١١. يستطيع الإنسان مشاهدة الطبيعة إذا نظر إلى سطح الأرض من ارتفاع كبير ()
١٢. تصبح الخريطة مفيدة وقابلة للدراسة إذا توافرت فيها عناصر الخريطة ()
١٣. عنوان الخريطة هو المعلومات الجغرافية التي تحتويها الخريطة ()
١٤. من أمثلة عناوين الخرائط خريطة العالم الإسلامي ()
١٥. يستخدم المعلم والطالب الخريطة من أجل التعرف على الأماكن السياحية والطرق إليها ()
١٦. يستخدم الجيش الخرائط الطبوغرافية من أجل تحديد المواقع وتحديد اتجاه سير الجنود ()
١٧. الخريطة أداة مهمة وضرورية لكثير من الأعمال التي يقوم بها بعض الأشخاص ()

- ١٨ . يستخدم المسافر الخريطة للتعرف على معرفة المناطق والأماكن التي يقصدها ()
- ١٩ . الخرائط السياسية توضح توزيع درجات الحرارة والأمطار واتجاه الرياح ()
- ٢٠ . الخرائط الطبيعية هي التي تبين أسماء الدول والحدود ()
- ٢١ . تعتبر الخريطة وسيلة مهمة لتكوين صورة واضحة عن سطح الأرض ()

السؤال الثالث : ضع خطأ تحت الإجابة الصحيحة مما بين القوسين فيما يلي :

١- من مصادر المعرفة الجغرافية التقليدية

(الاستشعار عن بعد - الخرائط - نظم المعلومات الجغرافية)

٢- من تطبيقات الاستشعار عن بعد

(الصور الجوية - الصور الفضائية - كل ما ذكر)

٣- الخط الذي يحيط بالخريطة وما فيها من خطوط ورموز وألوان هو

(مفتاح الخريطة - مقياس الرسم - الإطار)

٤- عبارة عن مربع أو مستطيل صغير يوجد غي إحدى زوايا الخريطة هو

(مفتاح الخريطة - مفتاح الخريطة - الإطار)

٥- النسبة بين المسافة على الخريطة وما يقابلها من مسافة حقيقية على الأرض هو

(اشارة الاتجاه - مقياس الرسم - عنوان الخريطة)

٦- تكون على شكل سهم نحدد من خلاله اتجاه الشمال على الخريطة

(اشارة الاتجاه - الاطار - مقياس الرسم)

٧- يدل على نوع الخريطة ومحتواها

(مفتاح الخريطة - مقياس الخريطة - عنوان الخريطة)

٨- الرسم يمثل رسم _____

(الكسري - الخطي - النسبي - كل ما ذكر)

٩- من أمثلة الخرائط الطبيعية

(خرائط توزيع التضاريس – الخرائط الطبيعية – الخرائط الاقتصادية)

١٠- خرائط تبين أسماء الدول والحدود التي تفصل بينهما هي

(الخرائط السياسية – الخرائط الطبيعية _ الخرائط الاقتصادية)

١١- يستخدم الخرائط كل من

(المعلم والطالب – الجيش – كل ما ذكر)

١٢- من أهمية الخريطة ما عدا

(تحديد المواقع الجغرافية – مقارنة الظواهر الجغرافية – تسجيل المواليد)

السؤال الرابع : اربط بين عمل الشخص في العمود (أ) والهدف من استخدامه للخريطة في العمود (ب):

(أ)	(ب)
المسافر والسائح	توزيع درجات الحرارة والأمطار
الجيش	تحديد المواقع وتحديد اتجاه سير الجنود
مذيع النثر الجوية	توضيح وفهم توزيع المظاهر الجغرافية
المعلم والطالب	التعرف على الأماكن السياحية والطرق المؤدية إليها

السؤال الخامس : اذكر السبب:

١- تسمية الخرائط الطبيعية بهذا الاسم؟

السبب:

٢- تسمية الخرائط السياسية بهذا الاسم؟

السبب:

٣- أهمية استخدام الخرائط السياسية؟

السبب:

٤ - تسمية الخرائط بهذا الاسم؟

السبب:

٥ - أهمية وجود الألوان على الخريطة الطبيعية ؟

السبب:

٦ - أهمية الخريطة ؟

السبب:

السؤال السادس : ما النتيجة المترتبة على :

١ - التطور السريع في العالم؟

النتيجة :

٢ - تنوع الظواهر الطبيعية والبشرية على سطح الأرض؟

النتيجة:

السؤال السابع : وضح معنى مقياس الرسم الآتي (١:١٠٠.٠٠٠ اسم)

.....
.....

السؤال التاسع : اكتب المفهوم العلمي:

- ١- هي رسم توضيحي لسطح الأرض أو لجزء من على سطح مستوي وفقاً لمقياس رسم معين
- ٢- يدل على نوع الخريطة وما فيها من معلومات
- ٣- هو المعلومات الجغرافية التي تحتويها الخريطة
- ٤- هو الخط الذي يحيط بالخريطة ويحدد محتوياتها
- ٥- هو سهم يبين اتجاه الشمال الجغرافي على الخريطة
- ٦- هو مربع أم مستطيل يوجد على الخريطة ويبين دلالات الرموز ومعانيها والمصطلحات المستخدمة فيها
- ٨- هو النسبة بين المسافة على الخريطة وما يقابلها من مسافة حقيقية على الأرض

السؤال العاشر : أكتب المصطلح العلمي :-

- ١- (.....) هي تمثيل لسطح الأرض كله أو لجزء منه عن طريق الرموز أو الألوان

السؤال الحادي عشر : أمامك خريطة أفريقيا السياسية فكر وأجب



١. ما أسم البحار التي تشرف عليها مصر


٢. ما أسم البحر والمحيط اللذان تشرف عليهما دولة المغرب

٣. في أي محيط تقع جزر القمر

٤. ما الدولتان العربيتان اللتان يمر منهما نهر النيل

السؤال الثاني عشر : (أ) ارسم خريطة لفلسطين تتوافر فيها عناصر الخريطة من



(إطار – عنوان – مفتاح – إشارة الاتجاه مقياس رسم)



(ب) إمامك خريطة الوطن العربي عليها عواصم ومدن وموانئ صمم مفتاح للخريطة



السؤال الثالث عشر : (ا) أرسم خريطة طبيعية لفلسطين وأخرى سياسية



(ب) تأمل الخريطة التي أمامك ثم اختر الإجابة الصحيحة مما بين القوسين



١ - هذه الخريطة تمثل قارة :

(أمريكا الشمالية - أمريكا الجنوبية - استراليا)

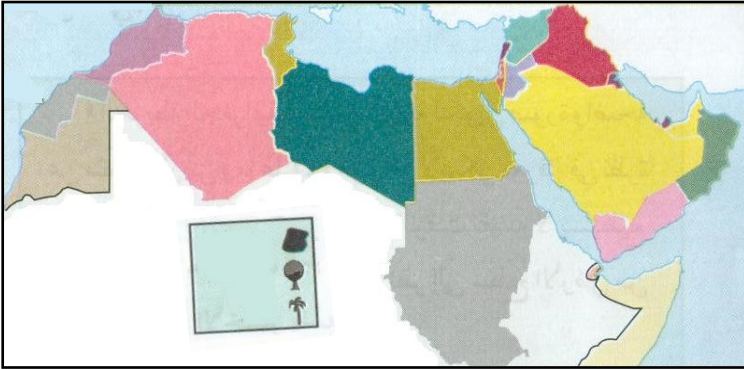
٢ - هذه الخريطة تسمى خريطة :

(سياسية - طبيعية - اقتصادية)

٣ - المحيط الذي يفصل بينها وبين قارة أفريقيا هو :

(الهندي - الهادي - الأطلسي)

(ج) أمامك خريطة الوطن العربي اختر مما بين القوسين



١ - هذه الخريطة (سياسية - اقتصادية - طبيعية)

٢ - أكتب ما تشير إليه الرموز في مفتاح الخريطة

.....

الدرس :الثاني: مصادر المعرفة التاريخية

السؤال الأول: أكمل الفراغ بما يناسبه :

- ١- هو الزمن او الوقت ويطلق على الأحداث الماضية وما يكتب عنها من مؤلفات
- ٢- الرمز..... يدل على تاريخ ما قبل ميلاد المسيح أما الرمز..... يعني ميلاد السيد المسيح
- ٣- الرمز يدل على التاريخ الهجري بالنسبة للمسلمين
- ٤- كانت هجرة المسلمين الأولى من مكة إلى أما الهجرة الثانية فكانت إلى
- ٥- بدأ العمل بالتاريخ الهجري في عهد الخليفة
- ٦- يقوم الاحتلال الصهيوني الحقائق والوقائع التاريخية ويזורها ويحرفها
- ٧- هي الأشياء التي يستفيد منها الإنسان لمعرفة التاريخ
- ٨- من مصادر التاريخ و و و
- ٩- تزودنا مصادر التاريخ بمعلومات عن الأمم والأحداث السابقة من الجوانب.....
والجوانب والجوانب..... والجوانب
- ١٠- تعد الرحلات التعليمية من
- ١١- من واجبنا اتباع الرحلة التعليمية
- ١٢- من حقنا كفلسطينيين في أرجاء الوطن كافة بحرية دون عوائق أو حواجز يفرضها الاحتلال الصهيوني
- ١٣- صور الاعلان العالمي لحقوق الانسان عام
- ١٤- من واجبنا على تراثنا الفلسطيني باعتباره مصدراً من مصادر المعرفة التاريخية
- ١٥- يجب التعاون مع الجهات المسؤولة سرقة التراث أو تهريبه

السؤال الثاني: - ضع علامة (✓) أمام العبارة الصحيحة وعلامة (x) أمام العبارة الخاطئة:-

- ١- الرمز ق ٠ م يعني ما قبل ميلاد سيدنا محمد ()
- ٢- بدأ العمل بالتاريخ الهجري في عهد الخليفة أبو بكر الصديق ()
- ٣- القواشين التي يملكها أفراد الشعب الفلسطيني من مصادر التاريخ ()
- ٤- المذكرة الشخصية هي الكتب التي ألفها المؤرخون عن شخصيات مشهورة ()
- ٥- انحصر اهتمام المؤرخين في كتابة تاريخ الملوك والسلطين ()
- ٦- مذكرات محمد عزت دروزة تعتبر من نوع مصادر تاريخ السيرة الذاتية ()
- ٧- النقوش والأهرامات والأماكن المقدسة تعتبر من مصادر التاريخ "الوثائق" ()
- ٨- المؤرخ هو الشخص الذي يقوم بكتابة التاريخ اعتماداً على مصادره الرئيسية ()
- ٩- الاحتلال الصهيوني يستهدف تاريخنا ووجدنا ()
- ١٠- الاحتلال الصهيوني ينسج تاريخاً ينسج تاريخاً مزيفاً يوافق أغراضه ومآبه ()
- ١١- علم التاريخ ينصف الأمم ويحفظ تراثها ()
- ١٢- تزودنا المصادر التاريخية بمعلومات عن الأمم والأحداث السابقة ()
- ١٣- تعد الرحلات التعليمية من مصادر المعرفة ()
- ١٤- علينا عدم اتباع تعليمات الرحلة التعليمية ()
- ١٥- يجب علينا المحافظة على نظافة الأماكن التي نزورها في الرحلة التعليمية ()
- ١٦- يجب علينا المحافظة على نظافة الأماكن التي نزورها في الرحلة التعليمية ()
- ١٧- حق الفلسطينيين التنقل في وطنهم بحرية ودون عوائق ()
- ١٨- صدر الاعلان العالمي لحقوق الانسان عن الامم المتحدة عام ١٩٦٧ ()

السؤال الثالث : ضع خطأ تحت الإجابة الصحيحة مما بين القوسين:

- ١- تم العمل بالتاريخ الهجري زمن الخليفة
(عمر بن الخطاب – أبو بكر الصديق – عثمان بن عفان)
- ٢- توجد الأهرامات في دولة
(العراق – فلسطين – مصر)
- ٣- قبة الصخرة والمسجد الأقصى وكنيسة المهد من مصادر التاريخ
(الوثائق – الآثار – الكتب السماوية)
- ٤- توجد كنيسة القيامة في مدينة
(القدس – نابلس – بيت لحم)
- ٥- كتاب الكامل في التاريخ للمؤرخ
(الطبري – المسعودي – ابنثير)
- ٦- ما تختزنه ذاكرة الإنسان حول الأحداث التي عاشها وشاهدها بنفسه يعني
(رواية شخصية – مذكرات شخصية – الوثائق)
- ٧- توجد مدينة بابل في دولة
(فلسطين – العراق – مصر)
- ٨- يوجد المسجد الأقصى وقبة الصخرة في مدينة _____ بفلسطين
(بيت لحم – غزة – القدس)
- ٩- تزودنا المصادر التاريخية بمعلومات عن الأمم والأحداث السابقة من الجوانب
(السياسية – الاقتصادية – الاجتماعية – كل ما ذكر)

١٠- تم اصدار الاعلان العالمي لحقوق الانسان الصادر عن الأمم المتحدة عام

(١٩٤٨ - ١٩٦٧ - ١٩٥٠)

١١- مؤلف موسوعة بلادنا فلسطين

(الدباغ - الطبري - عبد الغني النابلسي)

١٢- الكتب التي يؤلفها المؤرخون تسمى

(كتب التاريخ - المذكرات الشخصية - الكتب السماوية)

١٣- من الآثار الموجودة في الأردن

(مدينة البتراء - مدينة بابل - مدينة تدمر)

١٤- توجد كنيسة البشارة في مدينة

(القدس - الناصرة - بيت لحم)

١٥- من أمثلة الروايات

(الصحف - المحلات - كل ما ذكر)

السؤال الرابع : اختر من المجموعة (أ) ما يناسبه من المجموعة (ب) :

(ب) نوعها

(أ) المصادر التاريخية

- | | | |
|---|-----|-------------|
| ١- جواز سفر فلسطين صدر في عهد الانتداب | () | رواية شخصية |
| ٢- مقابلة شخصية مع رجل مسن هاجر من أرضه | () | وثيقة |
| ٣- آية قرآنية | () | سيرة ذاتية |
| ٤- مذكرات محمد عزت دروزة | () | آثار |
| ٥- الأهرامات في مصر | () | كتاب مقدس |

السؤال الخامس: بم تفسر:

١- أهمية المصادر التاريخية ؟

السبب :

السؤال السادس: اكتب المفهوم العلمي:

١- (.....) السيرة الذاتية لمؤلفها وتجاربه في الحياة

٢- (.....) ما تختزنه ذاكرة الانسان حول الأحداث التي عاشها وشاهدها بنفسه

٣- (.....) الأوراق الرسمية الخاصة والعامة مثل قواشين الأرض وسجلاتها

٤- (.....) تشتمل على المباني والنقود وغيرها مثل الأهرامات والمدن والمساجد والكنائس

الوحدة الثانية : الوطن العربي من الحضارات القديمة

الدرس الأول : شبه الجزيرة العربية

السؤال الأول : أكمل الفراغ بما يناسبه:

- ١- تقع شبه الجزيرة العربية في الجنوب الغربي من قارة
- ٢- تتعد مظاهر السطح لشبه الجزيرة فمنها و و
- ٣- سميت شبه الجزيرة العربية بهذا الاسم بسبب
- ٤- يسود مناخ شبه الجزيرة العربية المناخ في معظمها
- ٥- تتمتع شبه الجزيرة العربية بموقع تجاري و مهم لكونها تشرف على مسطحات مائية
- ٦- من السهول الساحلية لشبه الجزيرة العربية سهول و و
- ٧- من جبال شبه الجزيرة العربية جبال و
- و و و
- ٨- تغطي الهضاب أراضي شبه الجزيرة العربية
- ٩- من هضاب شبه الجزيرة العربية هضبة وهضبة
- ١٠- من اهم أودية شبه الجزيرة العربية وادي ووادي
- ١١- من عوامل نشوء الحضارة في شبه الجزيرة العربية هي و
- و و
- ١٢- يقصد بعرب الجنوب أهل
- ١٣- النتيجة المترتبة على استقلال عرب الجنوب موقع بلادهم على طرق التجارة العالمية الرئيسية
- ١٤- أرسل أهل اليمن قوافلهم غرب..... إلى سوريا و شمالاً

- ١٥- تعد دولة..... من أقدم دول اليمن التي ظهرت في الفترة ما بين ١٣٠٠ م _ ٦٥٠ ق.م
- ١٦- من أهم الدول التي نشأت في اليمن قديما و و
- ١٧- أقامت معين علاقات تجارية مع و
- ١٨- من أشهر ملوك سبأومن أشهر ملوك حمير.....
- ١٩- من أشهر قصور اليمن القديمة
- ٢٠- من المجالات التي قدمت الحضارة اليمنية فيها انجازات و و
- ٢١- من أهم السدود التي بنيت في اليمن
- ٢٢- عرف اليمنيون الملاحة في المحيط
- ٢٣- ما يدل على تقدم اليمنيون في الهندسة و
- ٢٤- من العوامل التي أدت إلى تراجع حضارات جنوب شبه الجزيرة العربية و
- و و
- ٢٥- من انواع الهجرة و و
- ٢٦- من الأمثلة على الهجرات العربية القديمة
- ٢٧- أدت حرب عام ١٩٤٨ (النكبة) إلى ما يزيد عن ٨٠٠ ألف فلسطيني من ديارهم
- ٢٨- تم تدمير أكثر من قرية فلسطينية وارتكب الصهاينة مجزرة خلال الحرب
- ٢٩- عاش الفلسطينيون الذين هجروا في التي اقامتها وكالة الامم المتحدة (الاونروا)
- ٣٠- من الدول العربية المجاورة لفلسطين التي لجأ اليها الفلسطينيين الذين هجروا عام ١٩٤٨ هي و و

السؤال الثاني: - ضع علامة (✓) أمام العبارة الصحيحة وعلامة (x) أمام العبارة الخاطئة:-

١. تقع شبه الجزيرة العربية في الجهة الجنوبية الغربية لقارة آسيا ()
٢. تطل سهول الاحساء على البحر الأحمر ()
٣. تطل سهول اليمن على ساحل الخليج العربي ()
٤. من جبال شبه الجزيرة العربية جبال الحجاز وعسير ()
٥. تغطي الهضاب معظم أراضي شبه الجزيرة العربية ()
٦. من أودية شبه الجزيرة العربية وادي الدواسر ووادي الرمة ()
٧. يغلب على شبه الجزيرة العربية الطابع الصحراوي ()
٨. تعد شبه الجزيرة العربية من أشد مناطق العالم جفافاً وحرارة ()
٩. الأمطار لا تسقط على شبه الجزيرة العربية الا نادراً ()
١٠. تسقط الأمطار الشتوية في المناطق الشمالية وبعض مناطق الساحل الغربي ()
١١. تسقط الأمطار الشتوية في المناطق الموسمية الصيفية على اليمن ويسر واجزاء من عمان في فصل الصيف ()
١٢. الموقع الاستراتيجي له دور كبير في نشوء الحضارات ()
١٣. يساعد موقع شبه الجزيرة العربية المتميز على انشاء علاقات تجارية واسعة ()
١٤. تعتبر هضبة نجد من أهم هضاب شبه الجزيرة العربية سهل مرج بن عامر ()
١٥. تفصل جبال الحجاز بين نجد وتهامة ()
١٦. من السهول الساحلية في شبه الجزيرة العربية سهل مرج بن عامر ()
١٧. تعود جزور الشعوب العربية إلى شبه الجزيرة العربية ()
١٨. تحيط المياه بشبه الجزيرة العربية من جميع الجهات ()
١٩. سيطرت دولة حمير على اليمن بعد سقوط دولة معين ()
٢٠. تعد مملكة سبأ أعظم ممالك اليمن شهرة بعد أن تغلبت على مملكة معين ()
٢١. اشتهرت مملكة معين بالتجارة مع الهند والصين ()
٢٢. عمل أهل اليمن في الزراعة فقط ()
٢٣. سكن حكام اليمينيون قصوراً فخمة منيعة مبنية من الرخام ()
٢٤. اليمينيون هم الوحيدون الذين عرفوا الملاحة في المحيط الهندي ()
٢٥. من أقدم دول اليمن دولة حمير ()
٢٦. من أشهر ملوك دولة سيف بن ذي يزن ()

٢٧. أنشأت عرب الجنوب علاقات تجارية وأرسلوا قوافل إلى سوريا وفلسطين ومصر والعراق ()
٢٨. يعتبر اليمنيون أول من عرفوا الملاحة في المحيط الهندي ()
٢٩. ساعد وجود بئر زمزم على قيام حضارة شبه الجزيرة العربية ()
٣٠. أدى وجود البيت الحرام ومرور القوافل التجارية من أراضيها إلى أهميتها الدينية والتجارية ()
٣١. تعتبر شبه الجزيرة العربية جزء لا يتجزأ من الحضارة الانسانية قبل الاسلام ()
٣٢. شهدت شبه الجزيرة العربية استقرار بشري منذ آلاف السنين ()
٣٣. من أهم قصور اليمن قصر غمدان الشهيد ()
٣٤. بنى اليمنيون المدرجات الزراعية على جوانب الجبال ()
٣٥. استخدم اليمنيون البخور في المعابد ()
٣٦. ركب عرب اليمن البحر وأقاموا علاقات تجارية مع بلاد الهند ()
٣٧. من نتائج تراجع حضارة شبه الجزيرة العربية اضطراب التجارة ()

السؤال الثالث: ضع خطأ تحت الاجابة الصحيحة مما بين القوسين فيما يلي :

- ١- تأثرت الحضارة في شبه الجزيرة العربية بطبيعتها من حيث (الموقع - السطح - السكان - كل ما ذكر)
- ٢- أرض محاطة بالماء من ثلاثة جهات هي : (الجزيرة - شبه الجزيرة - البحيرة)
- ٣- أرض محاطة بالماء من جميع الجهات هي (الجزيرة - شبه الجزيرة - الخليج)
- ٤- يحد شبه الجزيرة العربية من جهة الغرب البحر (المتوسط - الأحمر - الأسود)
- ٥- يحد شبه الجزيرة العربية من جهة الشمال (العراق - الخليج العربي - بادية الشام)
- ٦- تقع شبه الجزيرة العربية في الركن الجنوبي من قارة (افريقيا - اسيا - أوروبا)

- ٧- شبه الجزيرة العربية منطقة قاحلة نادرة المطر بوجه عام إلا في بلاد
(السعودية - الكويت - اليمن)
- ٨- تسقط الأمطار على اليمن في فصل
(الصيف - الشتاء - الربيع)
- ٨- يوجد سد مأرب المشهور في دولة
(معين - حمير - سبأ)
- ٩- قدمت دولة اليمن انجازات في
(الزراعة - التجارة - العمارة - جميع ما ذكر)
- ١٠- أقدم دول بلاد اليمن
(سبأ - معين - حمير)
- ١١- من أشهر ملوك حمير
(شمر يرعش - بلقيس - سيف بن ذي يزن)
- ١٢- من أشهر قصور اليمن القديمة قصر
(هشام - غمدان - الرصافة)
- ١٤- يسود شبه الجزيرة العربية المناخ
(المعتدل - الممطر - الصحراوي)
- ١٥- المكانة التي يحظى بها الموقع في نفوس المسلمين من خلال ارتباطه بالديانات السماوية
(التربة الخصبة _ المكانة الدينية _ الموقع الاستراتيجي)
- ١٦- تشرف شبه الجزيرة العربية على مجموعة من المسطحات المائية منها
(بحر العرب - الخليج العربي - البحر الأحمر - كل ما ذكر)
- ١٧- من المظاهر التضارسية التي يتكون منها سطح شبه الجزيرة العربية
(السهول الساحلية - الجبال - الهضاب - كل ما ذكر)

١٨- تعرف سهول الحجاز وعسير واليمن المحاذية للبحر الأحمر باسم سهول

(الاحساء – تهامة – عمان)

١٩- تسقط الأمطار الصيفية على

(اليمن – عسير – أجزاء من عمان – كل ما ذكر)

٢٠- يغلب على مناخ شبه الجزيرة العربية الطابع

(الصحراوي – المعتدل – البارد)

٢١- من الهجرات العربية القديمة التي انتقلت من شبه الجزيرة العربية إلى أطرافها هجرة

(الاراميين – الكنعانيون – الاكاديين – كل ما ذكر)

٢٢- ينحدر غالبية اللاجئين في لبنان من منطقة

(الأغوار – الخليل – الجليل)

٢٣- واجبنا تجاه اللاجئين الفلسطينيين

(مساندتهم – اثارة قضيتهم على جميع الاصعدة والمستويات – كل ما ذكر)

السؤال الرابع : اذكر السبب:

١- تسود الظروف الصحراوية في أجزاء واسعة من شبه الجزيرة العربية؟

السبب:

٢- تسمية بلاد اليمن بهذا الاسم ؟

السبب:

٣- تسمية بلاد اليمن بالبلاد السعيدة؟

السبب:

٤- قيام دول منظمة في اليمن؟

السبب:

٥- اهتمام اليمنيون بإنشاء السدود ؟

السبب:

٦- ظهور دول حضارية مستقرة عند عرب الجنوب؟

السبب:

٧- الموقع الاستراتيجي عامل من عوامل نشوء الحضارات ؟

السبب:

٨- المناخ المعتدل عامل من عوامل نشوء الحضارات ؟

السبب:

٩- ساعد موقع شبه الجزيرة العربية على قيام الحضارة ؟

السبب:

١٠- تسمية شبه الجزيرة العربية بهذا الاسم ؟

السبب:

١١- أهمية موقع شبه الجزيرة العربية؟

السبب:

١٢- تعتبر شبه الجزيرة العربية من أشد مناطق العالم جفافاً وحرارة ؟

السبب:

١٣- سقوط الأمطار صيفاً على اليمن ؟

السبب:

١٤- قوة و ثراء مملكة معين ؟

السبب:

١٥- سقوط مملكة سبأ؟

السبب:

١٦- أهمية مدينة مكة؟

السبب:

١٧- أهمية مدينة يثرب؟

السبب:

١٨- أهمية مدينة الطائف ؟

السبب:

١٩- تراجع حضارات جنوب شبه الجزيرة العربية ؟

السبب:

السؤال الخامس: ما النتيجة المترتبة على:

١ – موقع شبه الجزيرة العربية المتميز؟

النتيجة:

٢ – هجرة سكان شبه الجزيرة العربية إلى العراق والشام والدول الأخرى ؟

النتيجة:

٣ – اقامة السدود والفنوات في اليمن ؟

النتيجة:

٤ – تقدم الملاحة في اليمن قديماً؟

النتيجة:

٥ – تهدم سد مأرب؟

النتيجة:

٦ – سهولة اتصال سكان شبه الجزيرة العربية في المناطق المجاورة ؟

النتيجة:

٧ – خصوبة التربة ووفرة المياه في جنوب الجزيرة العربية؟

النتيجة:

٨ – نشوء الحضارة في شبه الجزيرة العربية؟

النتيجة:

٩ – تقدم اليمنيون في الهندسة؟

النتيجة:

١٠ – غزارة الأمطار وخصوبة التربة في شبه الجزيرة العربية؟

النتيجة :

١١ - تمتع شبه الجزيرة العربية بموقع تجاري وحضاري مهم؟

النتيجة:.....

١٢ - يغلب على مناخ شبه الجزيرة العربية الطابع الصحراوي؟

النتيجة:.....

السؤال السادس: اختر من المجموعة (أ) ما يناسبه من المجموعة (ب):

(أ) مظاهر السطح	(ب) الاسم
١ - سهول ساحلية	() نجد
٢ - جبال	() الدواسر
٣ - هضاب	() تهامة
٤ - أودية	() الحجاز

السؤال السابع : اكتب المفهوم:

١- (.....) هي مساحة من الأرض تحيط بها المياه من جميع الجهات مثل جزيرة قبرص

٢- (.....) هي مساحة من الأرض تحيط بها المياه من ثلاث جهات فقط مثل شبه الجزيرة

العربية

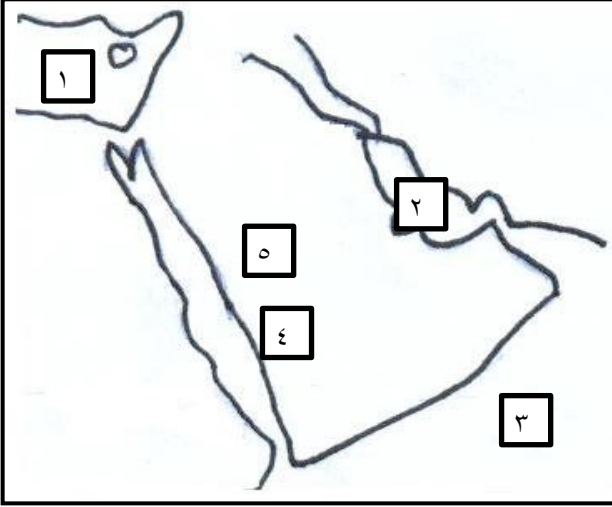
٣- (.....) ما أنجزه الانسان نتيجة استقراره في القرى والمدن من أجل تحسين ظروف حياته

٤- (.....) تغيير الانسان مكان إقامته بشكل مؤقت أو دائم

٥- (.....) سهول محاذية لساحل البحر الأحمر وتتمثل في سهول الحجاز وعسير واليمن


٦- (.....) جبال تفصل بين تهامة وهضبة نجد

السؤال الثامن : أمامك خريطة شبه الجزيرة العربية أكتب ما تشير إليه الأرقام :-



- ١- البحر
- ٢- الخليج
- ٣- المحيط
- ٤- سهول
- ٥- هضبة

السؤال التاسع : أرسم خريطة شبه الجزيرة العربية ووقع عليها

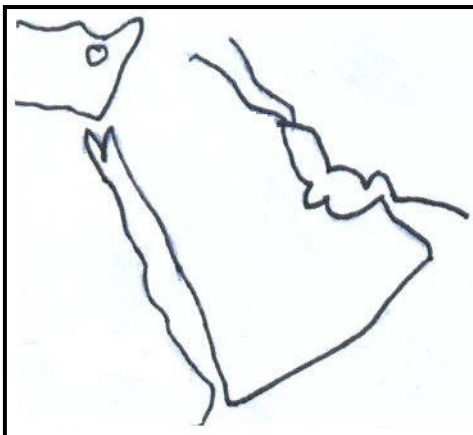


١- دولة معين

٢- دولة سبأ

٣- دولة حمير

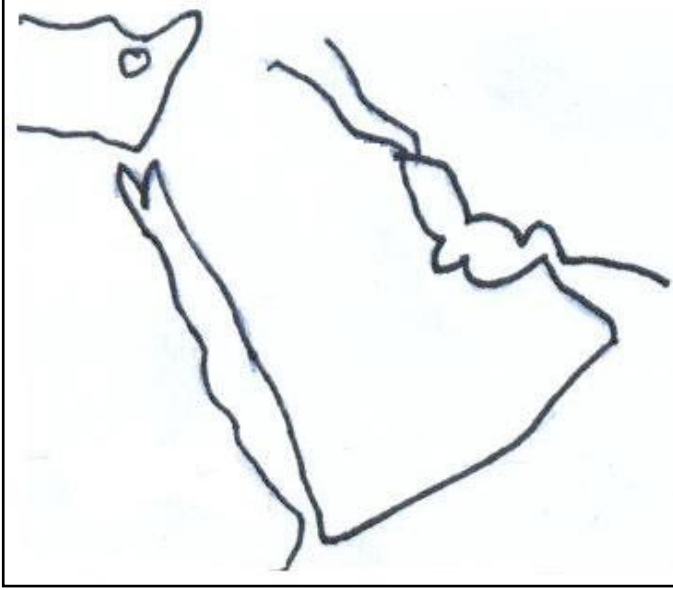
السؤال العاشر : أمامك خريطة شبه الجزيرة العربية وقع عليها



١- دولة الأنباط

٢- دولة تدمر

السؤال الحادي عشر : (أ) أمامك خريطة شبه الجزيرة العربية وقع عليها :



١ - السهول الساحلية

٢ - الجبال

٣ - الهضاب

٤ - الأودية

(ب) أرسم خريطة شبه الجزيرة العربية ووقع عليها :-



١ - دولة معين

٢ - دولة سبأ

٣ - دولة حمير

٤ - دولة الأنباط

٥ - دولة تدمر

الدرس الثاني : بلاد الشام

السؤال الأول: أكمل الفراغ بما يناسبه:

- ١- من عوامل قيام حضارة بلاد الشام و و
- ٢- تقع بلاد الشام في غرب قارة
- ٣- يحد بلاد الشام من الجنوب و ومن الشمال
- ومن الغرب ومن الشرق
- ٤- من أهم معالم سطح بلاد الشام و و
- ٥- تنقسم السهول إلى سهول وسهول
- ٦- من مناطق الأغوار في سوريا وفي لبنان وفي فلسطين
- ٧- من أنهار بلاد الشام و و
- ٨- تتألف بلاد الشام في الوقت الحالي من دولة و و
- ٩- يمتاز سطح بلاد الشام بـ الظواهر الطبيعية
- ١٠- من أهم سهول الشام الداخلية سهل
- ١١- يوجد سهل الغاب في دولة بينما يقع سهل البقاع في دولة
- ١٢- توجد الهضاب في بلاد الشام في الجهة
- ١٣- يخترق سطح بلاد الشام مجموعة من الأودية منها نهر و و
- ١٤- يحد بلاد الشام من جهة الشمال
- ١٥- من أهم مناطق الغور في فلسطين و و
- ١٦- أكبر دول بلاد الشام مساحة دولة
- ١٧- من الحضارات التي نشأت في بلاد الشام الحضارة والحضارة وحضارة
- ١٨- انتهت دولة الأنباط على يد عام ١٠٦م
- ١٩- من أشهر ملوك تدمير المملكة
- ٢٠- انتهت دولة تدمير على يد عام ٢٧٣

السؤال الثاني: - ضع علامة (✓) أمام العبارة الصحيحة وعلامة (x) أمام العبارة الخاطئة:-

١. تقع بلاد الشام جنوب قارة اسيا ()
٢. ساعدت طبيعة بلاد الشام على نشوء حضارة فيها من أقدم الحضارات ()
٣. تعتبر بلاد الشام حلقة اتصال بين حضارات العراق والجزيرة العربية ومصر ()
٤. تمتد السهول الساحلية في بلاد الشام بمحاذاة ساحل البحر المتوسط من جهة الشمال ()
٥. يسود بلاد الشام مناخ البحر المتوسط المعتدل في المناطق الغربية القريبة منه ()
٦. تمتد السهول الساحلية بين السلاسل الجبلية والهضاب ()
٧. تفصل منطقة الأغوار في بلاد الشام بين سلسلة الجبال الغربية والشرقية ()
٨. من أهم أنهار بلاد الشام نهر الأردن ونهر اليرموك ()
٩. تمتد سلاسل بلاد الشام الجبلية م ن الشرق إلى الغرب ()
١٠. يسود المناخ الصحراوي المنطقة الشرقية من بلاد الشام ()
١١. يتنوع مناخ بلاد الشام ()
١٢. هاجر الاراميون من شبه الجزيرة العربية إلى بلاد الشام في حوالي ١٥٠٠ ق.م ()
١٣. عرف الاراميون بالسريان بعد اعتناقهم الديانة المسيحية ()
١٤. من أهم أنهار بلاد الشام نهر الاردن ونهر اليرموك ()

السؤال الثالث : اختر الاجابة الصحيحة مما بين القوسين:

١. يحد بلاد الشام من الشرق (تركيا - شبه الجزيرة العربية - العراق)
٢. تمتد سلاسل بلاد الشام الجبلية من (الشرق للغرب - الشمال للجنوب - الغرب للشرق)
٣. يسيطر على بلاد الشام المناخ (الصحراوي - شبه الصحراوي - كل ما ذكر)
٤. تقع بلاد الشام في غربي قارة (آسيا - افريقيا - اوربا)
٥. يسود المناخ الصحراوي في بلاد الشام في المنطقة (الغربية- الشرقية - الشمالية)
٦. تقع بين سلسلة جبال بلاد الشام الغربية والشرقية منطقة (الغور- السهل الساحلي - ليس مما ذكر)
٧. من أهم السهول الداخلية في بلاد الشام سهل (حوارن - الاحساء - تهامة)
٨. يجري في بلاد الشام نهر (النيل - دجلة - العاصي)
٩. يسود مناخ البحر المتوسط في بلاد الشام في المناطق (الشرقية - الغربية - الجنوبية)

١٠. يوجد سهل الغاب في دولة (سوريا - لبنان - فلسطين)
١١. انتهى حكم الاراميون بعد الاحتلال (الروماني - البريطاني - الفارسي)
١٢. تكلم اللغة الارامية سيدنا (موسى - عيسى - محمد)
١٣. عرف الاراميون بالسريان بعد اعتناقهم الديانة (المسيحية - اليهودية - الاسلامية)
١٤. من أشهر مدن الاراميون مدينة (شكيم - آرام - البتراء)
١٥. نحت الانباط مدينة في الصخر (تدمر - آرام - البتراء)
١٦. من أشهر ملوك تدمر (زنوبيا - كليوتبرا - بلقيس)
١٧. تتميز فلسطين بـ ثوراتها الطبيعية (قلتها - تنوعها - عدم وفرتها)

السؤال الرابع: اختر من المجموعة (أ) ما يناسبها من المجموعة (ب):

(ب) السهول

سهل البقاع
مدينة اريحا
سهل الغاب

()
()
()

(أ) الدولة

١ - سوريا
٢ - لبنان
٣ - فلسطين

السؤال الخامس: اذكر السبل:

(١) تسمية بلاد الشام بهذا الاسم؟

السبب:

(٢) نشوء حضارة في بلاد الشام من أقدم الحضارات ؟

السبب:

(٣) انتشار اللغة الارامية بين الأنباط والتدمريين والاشوريين و الارمن والفرس؟

السبب:

(٤) وجود مناطق الأغوار في بلاد الشام ؟

السبب:

٥) يسود المناطق الشرقية من بلاد الشام المناخ الصحراوي؟

السبب:

٦) تسمية الاراميون بالسريان ؟

السبب:

٧) أهمية موقع بلاد الشام ؟

السبب:

٨) ضعف دولة الانباط ؟

السبب:

٩) سقوط دولة تدمر؟

السبب:

١٠) تسمية الانباط بهذا الاسم ؟

السبب:

١١) بني الانباط السدود والخزانات ؟

السبب:

١٢) أهمية موقع تدمر؟

السبب:

١٣) بناء التدمريون للحصون ؟

السبب:

١٤) تسمية الفساسنة بهذا الاسم ؟

السبب:

١٥) أهمية موقع الفساسة ؟

السبب:

١٦) لا يستفيد الشعب الفلسطيني من موارده الطبيعية ؟

السبب:

السؤال السادس : ما النتيجة المترتبة على:

١.تنوع طبيعة بلاد الشام واعتدال مناخها وكثرة الأودية والأنهار فيها؟

النتيجة:

٢.موقع بلاد الشام غرب قارة آسيا

النتيجة:

٣.موقع بلاد الشام بين العراق والجزيرة العربية

النتيجة:

٤.سهولة اللغة الآرامية

النتيجة:

٥.احتلال الفرس للآراميين

النتيجة:

٦.تحول طرق التجارة عن دولة الانباط إلى البحر الأحمر؟

النتيجة:

٧.تنوع الموارد الطبيعية في بلاد الشام

النتيجة:

٨.حرمان الفلسطينيون من حقهم في استغلال الموارد الطبيعية؟

النتيجة:

السؤال السادس: ماذا يحدث لو:

١- لم توجد أنهار ومناخ مناسب في بلاد الشام؟

يحدث:

السؤال السابع :

تأمل النص التالي ثم أجب على الأسئلة التي تليه:

" هاجر الآراميون في منتصف الألف الثاني قبل الميلاد من شمالي شبه الجزيرة العربية وتوزعوا في اتجاه الشمال والشمال الغربي كما استطاعوا تأسيس ممالك صغيرة في مناطق مختلفة غير أن أهم الممالك الآرامية في سوريا كانت مملكة دمشق ومن أشهر ملوكها رمين الذي استطاع توحيد عدة ممالك آرامية للوقوف في وجه توسع العبرانيون "

١- من أين قد الآراميون إلى بلاد الشام؟

.....

٢- من هو أشهر ملوك مملكة دمشق الآرامية؟

.....

٣- ما الدور الذي لعبته مملكة دمشق الآرامية في الحياة السياسية؟

.....

السؤال السابع : اكتب المفهوم:

١- (تتكون من أربع دول هي سوريا والأردن وفلسطين ولبنان)

٢- (تمتد في بلاد الشام من شمال سوريا حتى خليج العقبة وتتمثل في فلسطين بمنطقة

أريحا والأغوار والبحر الميت ووادي عربة

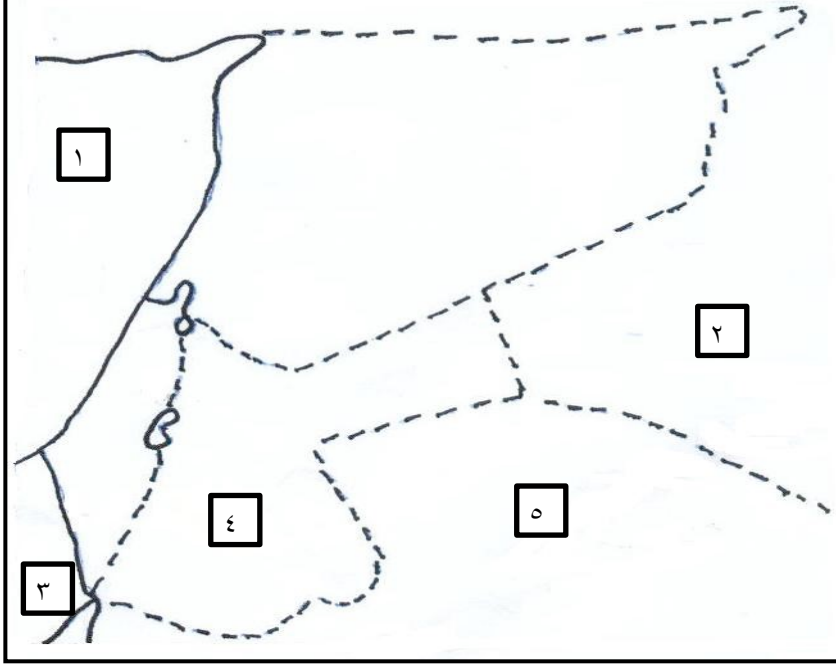
٣- (هم من القبائل العربية التي هاجرت من شبه الجزيرة العربية واستقرت في بلاد الشام

٤- (تعدد اصولهم إلى شبه الجزيرة العربية استقروا في بلاد الشام حوالي سنة ١٥٠٠ ق.م

٥- (جاءوا من شبه الجزيرة العربية في القرن السادس قبل الميلاد واستقروا جنوب الأردن

٦- (اصلهم من جنوب شبه الجزيرة العربية هاجروا بعد انهيار سد مأرب

السؤال الثامن : أمامك خريطة بلاد الشام وضع ما تشير إليه الأرقام :-



١- البحر

٢- دولة

٣- شبه الجزيرة

٤- دولة

٥- دولة

السؤال السابع : أمامك خريطة بلاد الشام وقع عليها :-



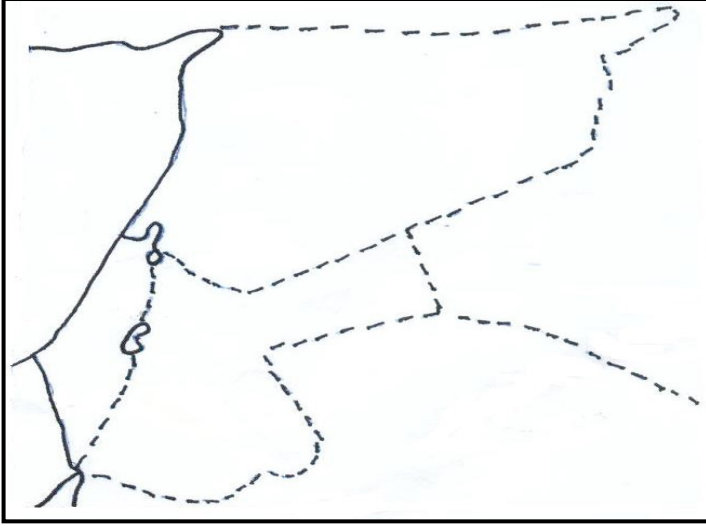
١- البحر المتوسط

٢- الكنعانيون

٣- القدس

٤- غزة

السؤال التاسع : (أ) أمامك خريطة بلاد الشام وقع عليها :-



١- البحر المتوسط

٢- دولة مصر

٣- شبه الجزيرة العربية

٤- دولة الأردن

٥- دولة سوريا

٦- دولة لبنان

الدرس الثالث : فلسطين (أرض كنعان)

السؤال الأول : أكمل الفراغ بما يناسبه:

١. سميت فلسطين بأرض
٢. هاجر الكنعانيون من واستقروا في بلاد الشام
٣. بنى الكنعانيون العديد من المدن التي امتدت من في سوريا شمالاً إلى غزة و جنوباً
٤. سمي الكنعانيون بهذا الاسم نسبة إلى جدهم
٥. تعني كلمة كنع أو خنع الكنعانية
٦. كانت عاصمة اليبوسيون وهؤلاء من القبائل الكنعانية
٧. ينسب اسم فلسطين الحالي إلى الذين سكنوا الساحل الجنوبي من فلسطين الحالية
٨. ظهر اسم فلسطين لأول مرة على النقود عام
٩. من أقدم المدن الكنعانية في العالم مدينة وتعني مدينة القمر
١٠. من آثار مدينة أريحا
١١. قام الاحتلال الصهيوني بـ التراث والتاريخ الوطني الفلسطيني وزوره
١٢. سمي الاحتلال الصهيوني الأسماء الكنعانية بـ
١٣. بنيت المدن الكنعانية علاقات مع البابليين والمصريين واليمنيين
١٤. عزل الاحتلال الصهيوني الشعب الفلسطيني من خلال بالجسور والمعابر الرئيسية
١٥. من المحاصيل الزراعية التي زرعها الكنعانيون
١٦. من الصناعات في عهد الكنعانيون و و
١٧. انتشرت الحروف الابجدية إلى انحاء العالم من

السؤال الثاني: - ضع علامة (✓) أمام العبارة الصحيحة وعلامة (x) أمام العبارة الخاطئة:-

١. سميت فلسطين أرض كنعان ()
٢. هاجر الكنعانيون من شبه الجزيرة العربية واستقروا في بلاد الشام ()
٣. سمي البيوسيون مدينة القدس باسم أورو سالم أي مدينة السلام ()
٤. سميت فلسطين بهذا الاسم نسبة إلى الفلسطينيين الذين سكنوا الساحل الجنوبي من فلسطين ()
٥. ظهر اسم فلسطين لأول مرة على النقود التي حكمها الامبراطور الروماني قسطنطين ()
٦. تعتبر فلسطين الممر البري الوحيد الذي يربط بين قارتي اسيا وافريقيا ()
٧. موقع فلسطين الاستراتيجي جعلها مسلكاً لطرق القوافل التجارية والجيوش منذ فجر التاريخ ()
٨. الموقع الاستراتيجي لفلسطين جعلها مطمعا للغزاة والقوى الاستعمارية ()
٩. لم تتحد المد الكنعانية في دولة مركزية واحدة ()
١٠. نتيجة لضعف الكنعانيون استولى الفلست على عسقلان وغزة ()
١١. انتشرت الحروف الأبجدية إلى انحاء العالم من مصر ()
١٢. نقل الكنعانيون زيت الزيتون إلى المغرب وايطاليا واسبانيا ()
١٣. سيطرت الإمبراطورية الكنعانية على كل أراضي بلاد الشام والعراق ()

السؤال الثالث: اختر الاجابة الصحيحة مما بين القوسيين :

١. ورد اسم فلسطين بأرض كنعان في رسائل (تل العمارنة - تل المتسلم - تل الربيع)
٢. هاجر الكنعانيون إلى فلسطين وبلاد الشام من (شبه جزيرة سيناء - شبه الجزيرة العربية - شبه جزيرة ايبيرية)
٣. أول أمة بحرية في التاريخ (الكنعانيون - الآراميون - السومريون)
٤. الدويلات التي أنشأها الكنعانيون في بلاد الشام (عكو - مجدو - جميع ما ذكر)
٥. دار الكنعانيون حول افريقيا عن طريق (البحر المتوسط - البحر الأحمر - بحر قزوين)
٦. يرجع ابتكار الحروف الهجائية إلى (٢٠٠٩ سنة - ٢٠٠ سنة - ٢٠٠٠ سنة ق م)
٧. من أهم المحاصيل التي زرعها الكنعانيون (الزيتون - النخيل - الحمضيات)

السؤال الرابع : اذكر السبب :

١- تسمية الكنعانيون بهذا الاسم ؟

السبب:

٢- تسمية فلسطين بهذا الاسم ؟

السبب:

٣- أهمية موقع فلسطين الاستراتيجي؟

السبب:

٤- بناء الكنعانيون الأسوار المنيعة حول المدن؟

السبب:

٥- وقوع المناطق الساحلية في بلاد الشام تحت سيطرة الفلست ؟

السبب:

٦- لم يستطع الكنعانيون تأسيس دولة موحدة ؟

السبب:

السؤال الخامس : ما النتيجة المترتبة على :

١- احتلال قبائل الفلست لفلسطين ؟

النتيجة:

٢- ضعف الكنعانيون ؟

النتيجة:

الدرس الرابع : العراق (بلاد الرافدين)

السؤال الأول: أكمل الفراغ بما يناسبه :

١. يحد العراق من الشمال ومن الجنوب و
- ومن الشرق ومن الغرب
٢. من مظاهر السطح في العراق الجبال و و
٣. ينبع نهري دجلة والفرات من هضبة في تركيا
٤. يتحد نهري دجلة والفرات عند
٥. سميت العراق ببلاد الرافدين نسبة إلى
٦. يسود الجبهة الشمالية الشرقية من العراق مناخ
٧. يسود منطقة السهول في العراق المناخ
٨. تقع العراق في الجزء الشمالي الشرقي من
٩. توجد الجبال في العراق في الجهة على الحدود
١٠. تمتد السهول في العراق على
١١. من العوامل الطبيعية التي ساعدت على نشوء الحضارة في العراق
- و
١٢. من الحضارات التي نشأت قديماً في العراق و و
١٣. ملك الاكاديين الذي استولى على المدن السومرية
١٤. كانت الانجازات السومرية في المجال و
١٥. سميت الكتابة السومرية بالكتابة
١٦. من الانجازات السومرية في المجال الاقتصادي و و
١٧. امتازت حضارة السومريون ب و

١٨. أشهر ملوك الدولة البابلية القديمة
١٩. من أهم المجالات التي برزت فيها انجازات بابل الحضارية و و
٢٠. من أهم الآثار البابلية و
٢١. من انجازات البابليون في المجال الفلك و و
٢٢. من الأسس التي توافرت لقيام الحضارة في العراق و و
٢٣. يعد حمورابي من أشهر ملوك
٢٤. قدم السومريون إلى العراق من واستقروا في عام
٢٥. تعد بلاد رائدة العالم القديم في علم الفلك حيث عرفوا وقت و وقسموا السنة إلى وأوجدوا الساعة..... ولها نموذج في المسجد

السؤال الثاني: - ضع علامة (✓) أمام العبارة الصحيحة وعلامة (x) أمام العبارة الخاطئة:-

١. تقع العراق في أقصى الشمال الغربي للوطن العربي ()
٢. المنفذ البحري الوحيد للعراق هو البحر الأحمر ()
٣. يسود مناخ البحر المتوسط في الجبهة الشمالية والشمالية الشرقية من العراق ()
٤. نصف الأراضي العراقية مناطق هضاب ()
٥. تمتد الجبال في العراق على الحدود الإيرانية التركية ()
٦. نسير الطرق النهرية في العراق عبر نهري دجلة والفرات ()
٧. كانت نهاية السومريين على يد الأكاديين ()
٨. استقر السومريون على يد الأكاديين ()
٩. هاجر السومريون من شبه الجزيرة العربية إلى العراق ()
١٠. سرجون الأول من أشهر ملوك السومريين ()
١١. اخترع السومريين الكتابة الهجائية ()
١٢. برع الآشوريين في فن القتال وصنعوا أسلحتهم من الحديد ()
١٣. بنى البابليون حضارتهم على أسس الحضارة السومرية ()
١٤. بنى البابليون الأدوية المصنوعة من الأعشاب في علاجهم للأمراض ()

١٥. انتهى الحكم العربي في العراق القديم على يد الفرس ()
١٦. اكتشف ظاهرة الخسوف والكسوف لأول مرة في التاريخ في اليمن ()
١٧. يحد العراق من الشرق ايران ()
١٨. السومريين من أقدم الشعوب المعروفة في التاريخ ()
١٩. توجد السهول في العراق في المنطقة الغربية ()
٢٠. يحد العراق من الغرب الكويت والسعودية ()
٢١. تمتد الهضاب في غرب العراق ()
٢٢. يسود العراق المناخ الصحراوي ()
٢٣. كانت نهاية السومريون على يد الأكاديين ()
٢٤. أثرت تضاريس العراق وموقعه في مناخه ()
٢٥. تطورت فكرة القوانين في بلاد الرافدين لتنظيم المجتمع على يد حمورابي ()
٢٦. تحالف المنادرة مع امبراطورية الروم ()
٢٧. تعتبر قوانين حمورابي من أقدم الشرائع المكتوبة في التاريخ البشري ()
٢٨. القانون ينظم العلاقات بين الاشخاص في المجتمع ()

السؤال الثالث: اختر الاجابة الصحيحة مما بين القوسيين :

١. يحد العراق من الشرق (الخليج العربي - سوريا - ايران)
٢. يسود المناخ الصحراوي في العراق الجبهة (الغربية - الشمالية - الشرقية)
٣. تحتل هضاب العراق حوالي _____ مساحة العراق (ثلث - نصف - خمس)
٤. يوجد نهري دجلة والفرات في دولة (سوريا - العراق - مصر)
٥. ينبع نهري دجلة والفرات من هضبة (ارمينيا - الحبشة - الجولان)
٦. من الحضارات القديمة التي قامت في العراق الحضارة (السومرية - البابلية - ٢+١)
٧. أقدم الشعوب المعروفة في التاريخ (الكنعانيون - السومريون - البابليون)
٨. قدم السومريون على العراق حوالي عام (٤٠٠٠ ق.م - ٣٥٠٠ ق.م - ٤٥٠٠ ق.م)
٩. استقر السومريون في _____ العراق (شمال - شرق - جنوب)

١٠. من أشهر ملوك الأكاديين (نبوخذ نصر – سرجون الأول – حمورابي)
١١. هاجر السومريون إلى العراق من (الجزيرة العربية – بلاد الفرس – تركيا)
١٢. كانت نهاية السومريين على يد (الأكاديين – الآشوريين – الفرس)
١٣. أشهر ملوك الدولة البابلية الحديثة (حمورابي – جون الأول – نبوخذ نصر)
١٤. عاصمة الآموريين مدينة (بابل – آشور – نينوى)
١٥. الملك البابلي الذي طور فكرة القوانين هو (نبوخذ مصر – حمورابي – سيف بن ذي يزن)
١٦. نشأت الدولة البابلية القديمة على يد القبائل الوافدة من (شبه الجزيرة العربية – إيران – شبه جزيرة سيناء)
١٧. من أهم المعالم الأثرية التي اتقنها البابليون في فنون العمارة في العراق (برج بابل – الحدائق المعلقة – المدرجات – أ + ب)
١٨. تقع العراق في أقصى شمال قارة (افريقيا – اسيا – أوروبا)
١٩. يحد العراق من الشمال (إيران – السعودية – تركيا)
٢٠. انتهى الحم العربي في العراق على يد (الروم – الفرس – المغول)
٢١. يسود مناخ البحر المتوسط المعتدل في العراق في الجبهة (الشمالية – الشرقية – الشمالية الشرقية)
٢٢. يسود المناخ شبه الصحراوي في العراق في منطقة (الجنوب – الوسط – – الوسط والجنوب)
٢٣. من ملوك السومريين (نمرود – سرجون الأول – نبوخذ نصر)

السؤال الرابع : صل المجموعة (أ) بما يناسبه من المجموعة (ب) :

(أ)	(ب)
١ - يحد العراق من الشرق	(تركيا)
٢ - يحد العراق من الغرب	(إيران)
٣ - يحد العراق من الشمال	(الخليج العربي والكويت والسعودية)
٤ - يحد العراق من الجنوب	(سوريا والأردن)

السؤال الخامس : صح الخطأ في العبارات التالية :

١- تقع العراق في اقصى جنوب غرب الوطن العربي

٢- يحد العراق من الغرب الكويت والسعودية

٣- توجد السهول في العراق في المنطقة الغربية

٤- قدم السومريون من شبه الجزيرة العربية

٥- ابتكر السومريون الكتابة على الورق المصنوع من البردي

٦- سرجون الأول من أشهر ملوك السومريون

٧- حمورابي من أشهر ملوك الدولة البابلية الحديثة

٨- انتهى الحكم العربي في العراق القديم على يد الروم

السؤال السادس : اكتب المصطلح :

١. (قدموا من ايران واستقروا جنوب العراق حوالي ٤٠٠٠ ق.م)
٢. (قبائل عربية نزحت من شبه الجزيرة العربية واستقرت في مدينة اسمها أكاد)
٣. (شعب عربي هاجر من الجزيرة العربية واستقر شمال العراق وعاصمته اشور)
٤. (اشهر ملوك الدولة البابلية القديمة)
٥. (من أهم معالم العاصمة البابلية ويرتفع ١٠٠ متر)
٦. (كتابة الألواح من الطين بأقلام مربعة الشكل وتشبه المسامير)
٧. (عاصمة الدولة البابلية)

٨. () حدائق بنيت على يد الملك البابلي نبوخذ نصر وهي من أحد المعالم العمرانية المهمة في العالم

السؤال السادس: رتب الحضارات الآتية م ن الحديث إلى القديم

اكاد – بابل – سومر- اشور

السؤال السابع : اذكر السبب:

١ – نشوء أقدم الحضارات في العراق ؟

السبب:

٢ – تسمية العراق ببلاد الرافدين ؟

السبب:

٣ – أهمية موقع العراق ؟

السبب:

٤ – أصبحت بابل مركزاً تجارياً عالمياً؟

السبب:

٥ – سن حمورابي شرائعه ؟

السبب:

٦ – سيطرت الاكاديين على المدن السومرية ؟

السبب:

٧ – سميت الكتابة السومرية بالكتابة المسمارية ؟

السبب:

٨ – اختراع السومريين للأختام؟

السبب:

٩- انتقال اختراعات السومريين إلى جميع أنحاء العالم ؟

السبب:

١٠- استقرار السومريين في جنوب العراق؟

السبب:

١١- تغلب الأكاديين على السومريين؟

السبب:

١٢- تغيير اسم الآموريين إلى البابليين؟

السبب:

١٣- أخذ البابليون أسس الحضارة السومرية؟

السبب:

١٤- أهمية نهري دجلة والفرات في نشوء الحضارة في العراق؟

السبب:

١٥- تعد بلاد الرافدين رائدة العالم القديم في علم الفلك؟

السبب:

١٦- تطور فكرة القوانين في بلاد الرافدين على يد حمورابي؟

السبب:

السؤال الثامن : ما النتيجة المترتبة على:

١- وجود نهري دجلة والفرات في العراق؟

النتيجة:

٢- ضعف حكام البابليون بعد حمورابي؟

النتيجة:.....

٣- موقع العراق المتميز؟

النتيجة:.....

٤- ضعف ملوك الدولة البابلية القديمة؟

النتيجة:.....

٥- الفتح الاسلامي للعراق؟

النتيجة:.....

٦- تطوير الملك البابلي حمورابي للقوانين ؟

النتيجة:.....

٧- انجازات السومريين الحضارية في المجال الاقتصادي؟

النتيجة:.....

٨- عدم استطالة السومريين تأسيس دولة واحدة ؟

النتيجة:.....

٩- موقع العراق في أقصى شمال شرق الوطن العربي؟

النتيجة:.....

١٠- توافر أسس قيام الحضارة من مياه وتربة خصبة ومناخ دافئ وسهول في العراق؟

النتيجة:.....

١١- اتخاذ البابليون من مدينة بابل عاصمة لهم؟

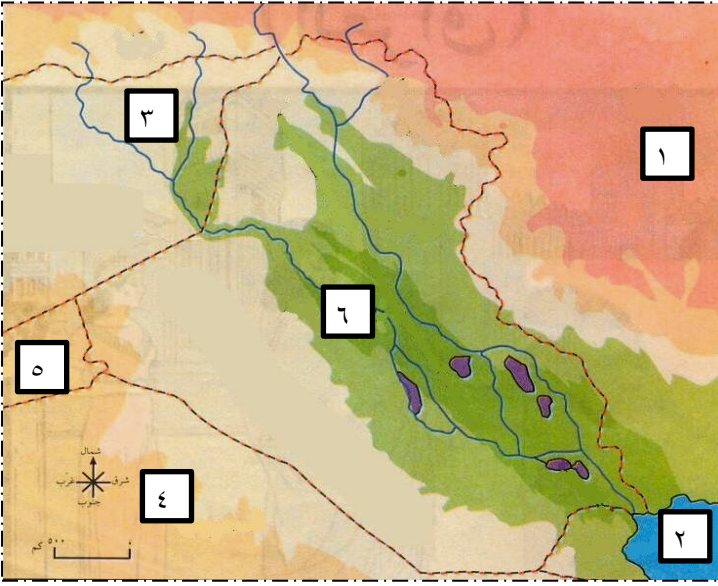
النتيجة:.....

السؤال التاسع: ماذا يحدث لو:

لم يكن للعراق منفذاً بحرياً؟

يحدث:

السؤال الثامن: (أ) أمامك خريطة العراق أكتب ما تشير إليه الأرقام :-



- ١-
- ٢-
- ٣-
- ٤-
- ٥-
- ٦-

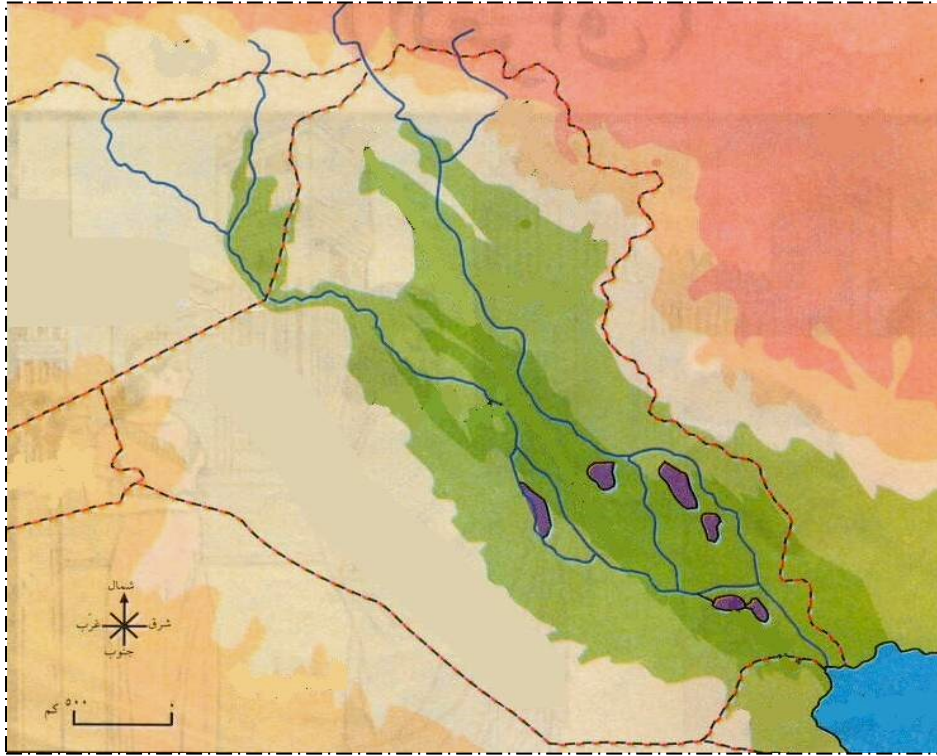
(ب) أرسم خريطة العراق ووقع عليها ما يلي :-



١. الأنهار

٢. أقسام السطح

السؤال السابع : أمامك خريطة العراق حدد عليها موقع :-



١- السومريون

٢- الأكاديين

الدرس الخامس : مصر وشمال أفريقيا

السؤال الأول : أكمل الفراغ بما يناسبه:

١. من عوامل نشوء الحضارة المصرية و و
٢. تقع مصر في الجهة الشمالية الشرقية من قارة.....
٣. يتكون سطح مصر من و و
٤. ينبع نهر النيل من ويصب في
٥. يتفرغ نهر النيل بالقرب من القاهرة إلى فرعين هما و
٦. من اكتشافات المصريين الفراعنة في مجال الزراعة و و
٧. من انجازات المصريين القدماء في العلوم و و
٨. صنع المصريون القدماء الورق من نبات
٩. ابتكر الفلاح المصري آلة لرفع المياه عند انخفاضها في المجرى تسمى
١٠. يحد مصر من الشمال ومن الجنوب ومن الشرق
- و..... ومن الغرب
١١. تستحوذ على معظم أراضي مصر ولبعدها عن البحار تحولت إلى صحراء
١٢. يسود مناخ شمال مصر والمناخ جنوبها
١٣. تمكنت روما من السيطرة على قرطاجة نهائياً عام ق.م
١٤. يتكون سطح دول شمال افريقيا من مظاهر تضارسية هي و
١٥. يسود مناخ البحر المتوسط في الأجزاء من دول شمال افريقيا

السؤال الثاني: - ضع علامة (✓) أمام العبارة الصحيحة وعلامة (x) أمام العبارة الخاطئة:-

١. يحد مصر من الغرب فلسطين والبحر الأحمر ()
٢. معظم أراضي مصر هضاب ()
٣. تقع مصر في قارة اسيا ()
٤. يسود المناخ الصحراوي شمال مصر ()
٥. نهر النيل أطول أنهار العالم ()
٦. يعتبر المصريون هم أول من تداول عملة في التاريخ ()
٧. عرف المصريون القدماء الساعة والوقت وبرعوا في الهندسة والحساب ()
٨. كان انتشار الكتابة المصرية أصعب من انتشار الكتابة المسمارية ()
٩. صنع المصريون القدماء الورق من نبات القلن ()
١٠. اهتم الفلاح المصري بتحديد مواعيد فيضان النيل ()
١١. أقام الفلاح المصري السدود لتخزين المياه وتنظيم الري ()
١٢. بنى ملوك مصر القدماء الأهرامات لتكون مساكن لهم في حياتهم ()
١٣. تحولت الهضاب المصرية إلى صحراء بسبب بعدها عن المسطحات المائية ()
١٤. هزمت روما قرطاجة في معركة زاما ()

السؤال الثالث: اختر الإجابة الصحيحة مما بين القوسين :

١. يحد مصر من الشمال (البحر المتوسط – البحر الأحمر – ليبيا)
٢. من أهم السهول الموجودة في مصر السهول (الساحلية – الداخلية – الفيضية)
٣. يسود مناخ البحر المتوسط في مصر (جنوبها – شرقها – شمالها)
٤. تقع مصر في الجبهة _____ من مصر (الشرقية – الجنوبية – الغربية)
٥. تقع مصر في الزاوية _____ من أفريقيا (الشمالية الغربية – الشمالية الشرقية – الجنوبية الشرقية)
٦. شامبليون الذي فك رموز حجر رشيد هو عالم (مصري – فرنسي – بريطاني)
٧. أول من صنع الورق من البردي هم (المصريون – الصين – اليابان)
٨. يدل بناء الأهرامات على تقدم (الحساب – الفلسفة – الهندسة)

٩. اسس الفينيقيون مدينة قرطاج في (الجزائر - تونس - المغرب)
١٠. تنسب الحضارة الرومانية إلى مدينة روما في (فرنسا - تونس - المغرب)
١١. روما عاصمة الإمبراطورية (الشرقية - الغربية - الاثنان معا)
١٢. عرفت الكتابة المصرية القديمة باسم الكتابة (الهيلوغروفية - المسمارية - الآرامية)

السؤال الرابع : بم تفسر:

١ - تحول معظم هضاب مصر إلى صحاري؟

السبب:

٢ - تسمية مصر بهبة النيل ؟

السبب:

٣ - فيضان نهر النيل صيفاً؟

السبب:

٤ - أهمية موقع مصر؟

السبب:

٥ - أهمية نهر النيل في نشوء الحضارة في مصر؟

السبب:

٦ - تقدم علم الهندسة عند المصريين القدماء؟

السبب:

٧ - نشوء حرب بين قرطاج وروما استمرت سنين طويلة ؟

السبب:

٨ - لم تعمر الإمبراطورية الرومانية بعد انقسامها ؟

السبب:

٩ - وجود الآثار الرومانية في فلسطين؟

السبب:

١٠ - تحنيط المصريون جثث الموتى ودفنوها في مقابر قوية البناء؟

السبب:

١١ - ساعدت الكتابة على الورق البردي على انتشار الكتابة الهيروغليفية أكر من الكتابة المسمارية؟

السبب:

١٢ - اقامة المصريين القدماء للسدود؟

السبب:

١٣ - برع المصريين القدماء في هندسة المساحة والحساب؟

السبب:

السؤال السادس: ماذا يحدث لو:

١ - لم يكن نهر النيل موجوداً في مصر ؟

يحدث :

٢ - لو كانت هضاب مصر قريبة من المسطحات المائية الكبيرة؟

يحدث :

٣ - لم تنقسم الامبراطورية الرومانية ؟

يحدث :

٤ - لم تتمكن روما من بسط سيطرتها على مصر والشام وبلاد الإغريق ؟

يحدث :

٥ - لم يستعمل المصريون القدماء ورق البردي والحبر للكتابة؟

يحدث :

السؤال السابع: اكتب المصطلح العلمي:

١. (أطول أنهار العالم ينبع من هضبة البحيرات ويصب في البحر المتوسط)
٢. (شهدت تداول أول عملة في التاريخ)
٣. (نبات ينمو في المستنقعات على جوانب النيل صنع منه المصريون القدماء الورق)
٤. (مدينة أسسها البحارة الفينيقيون في تونس في القرن ١٩ ق.م)
٥. (مدينة تنسب اليها الحضارة الرومانية)
٦. (إمبراطورية عاصمتها القسطنطينية)
٧. (كتابة فرعونية قديمة)

السؤال الخامس: ما النتيجة المترتبة على:

- ١- وجود نهر النيل في مصر؟
النتيجة:
- ٢- موقع مصر شمال شرق قارة افريقيا؟
النتيجة:
- ٣- بعد الهضاب المصرية عن المسطحات المائية؟
النتيجة:
- ٤- الحرب بين روما وقرطاجة؟
النتيجة:
- ٥- معرفة المصريون القدماء لهندسة المساحة؟
النتيجة:
- ٦- استعمال المصريون القدماء ورق البردي في الكتابة؟
النتيجة:
- ٧- فيضان نهر النيل وتخريب الحدود بين المزارعين ؟
النتيجة:

السؤال الثامن: اختر من المجموعة (أ) ما يناسبها من المجموعة (ب):

- | (أ) | (ب) |
|---|------------------------|
| ١ - ابتكر المصريون القدماء لرفع المياه من النيل | () المساحة |
| ٢ - برع المصريون القدماء في هندسة | () البردي |
| ٣ - صنع المصريون القدماء الورق من نبات | () الشادوف |

(ب) ارسم خريطة مصر ووقع عليها



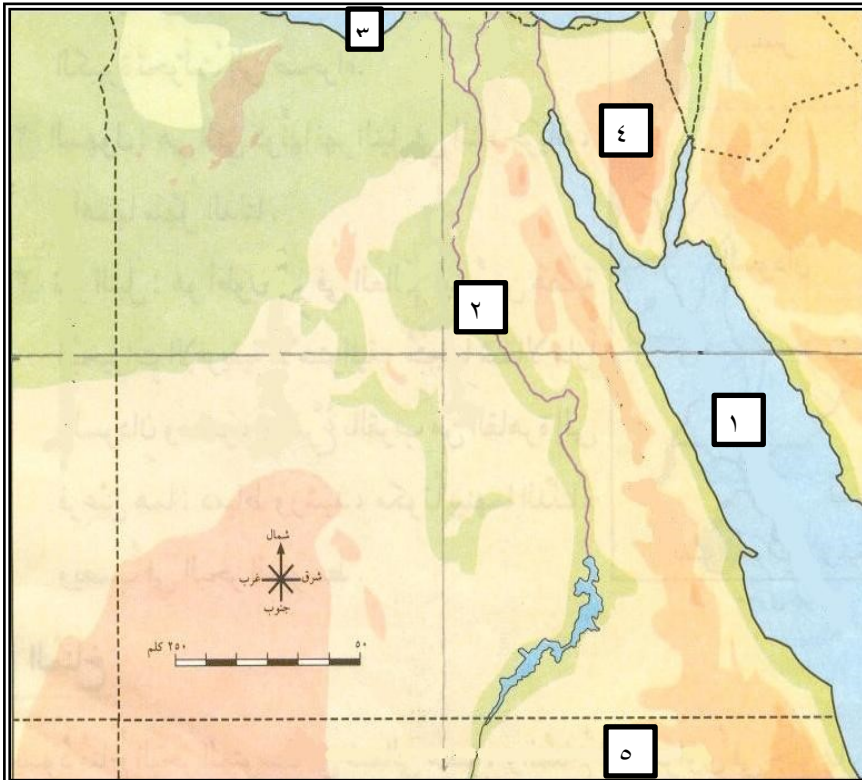
١- السهول الساحلية

٢- الهضاب

٣- نهر النيل

٤- فرع دمياط – فرع رشيد

السؤال العاشر : (أ) أمامك خريطة مصر أكتب ما تشير إليه الأرقام :



١-

٢-

٣-

٤-

٥-

اعداد المعلم : رائد أبو نمر

