

الخطة الاثرائية متعدد التخصصات

KG 1

ترم أول



A.SH

الخطة الاثرائية للمستوى الاول (متعدد التخصصات) ترم اول

المحور	الفصل	النشاط الاثرائي	ملاحظات
من اكون	الاول	<ul style="list-style-type: none"> • صل • ارسم دائره حول طعامك المفضل واكتب الحرف الاول • استخدم اللون الذي امامك للتلوين • صل • ضع علامه صح امام المتشابه وغلط امام المختلف • اكتب العدد المناسب • ارسم نفسك باستخدام الاشكال الهندسيه 	
من اكون	الثاني	<ul style="list-style-type: none"> • اكتب اسم كل فرد في الاسره • صل كل حيوان بصغيره • رتب مراحل نمو الانسان • رتب مراحل نمو الضفدع • ارسم دمي موضعا وشاهي وذراعيها وقدميها 	

الخطة الاثرانية للمستوى الاول (متعدد التخصصات) ترم اول

المحور	الفصل	النشاط الاثراني	ملاحظات
من اكلون	الثاني	<ul style="list-style-type: none"> • ارسم ما هو مطلوب • اكتب العدد • ضع دائره حول المجموعات المتشابهه في اللون • ضع دائره حول المجموعات المتشابهه في الشكل • صل • ارسم صورته لقاعتك والحجرات المجاوره لها 	
العالم من حولي	الثاني	<ul style="list-style-type: none"> • صل كل فرد بالمهمه التي يقوم بها في الاسره • ضع دائره حول المجموعات المتشابهه في عدد الاقدام • صل (ما احتاج اليه _ ما ارغب فيه) • صل البيئه بالكائن الذي يعيش فيها ثم اكتب الحرف الاول للكائن • اكتب اسم الكائن (اعرفني) 	

الخطة الاثرانية للمستوى الاول (متعدد التخصصات) ترم اول

المحور	الفصل	النشاط الاثراني	ملاحظات
العلم من حولي	الخامس	<ul style="list-style-type: none"> • ضع دائره حول الكائن الحي والمربع حول الغير حي • اجب على الاسئله الاتيه • اكتب اسم الفصل (صيف - ربيع - شتاء) • صل الكائن بالشيء الذي يميزه للبقاء • صل كل مهنة بادواتها 	
العلم من حولي	السادس	<ul style="list-style-type: none"> • ضع علامه صح امام السلوك الصحيح • رقم دوره المياه • ارسم استخدامات اخرى للماء 	

• صل :



أزرق



اسود



أخضر

• ارسم دائرة حول طعامك المفضل واكتب الحرف الاول:



.....



.....



.....

• استخدم اللون الذي امامك للتلوين:

أخضر

أصفر

أزرق

أحمر



• صل :



• ضع علامة ✓ امام المتشابهه و ✗ امام المختلف :



()



()

• اكتب العدد المناسب :



.....



.....



.....

• ارسم نفسك باستخدام الاشكال الهندسية :

• أكتب اسم كل فرد فى الاسرة



.....



.....



.....



.....

• صل كل حيوان بصغيره



• رتب مراحل نمو الانسان :



()



()



()



()

• رتب مراحل نمو الضفدع :



()



()



()



()

• ارسم دمي موضعا وجهها وذراعيها وقدميها


• ارسم :

مثلث	مربع	مستطيل	دائرة

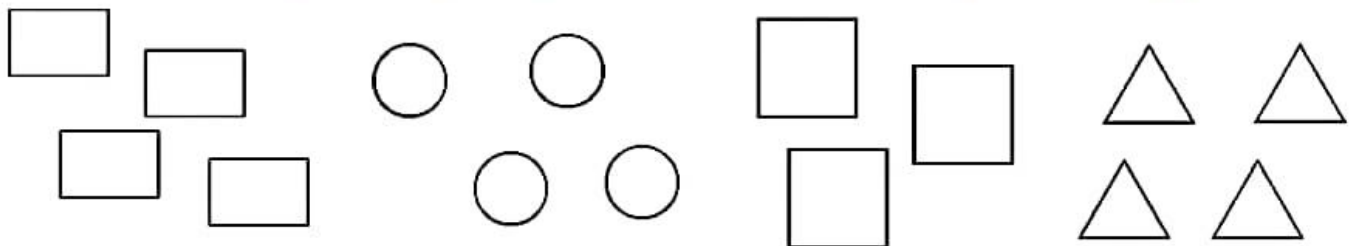
• اكتب العدد :

				
<input type="text"/>	<input type="text"/>	<input type="text"/>	<input type="text"/>	<input type="text"/>

• ضع دائرة حول المجموعات المتشابهة في اللون :



• ضع دائرة حول المجموعات المتشابهة في الشكل :



• صل :

معلم

فلاح

مهندس

طبيب



• ارسم صورة لقاعتك والحجرات المجاورة لها :

• صل كل فرد بالمهمة التي يقوم بها :



• ضع دائرة حول المجموعات المتشابهة في عدد الاقدام :



• صل :



ما أحتاج اليه



ما أرغب فيه



المحور الثاني

الفصل الاول (صغار الحيوانات)

- صل البيئه بالكائن الذى يعيش فيها ثم اكتب الحرف الاول للكائن :



- اكتب اسم الكائن :

- أعيش فى الغابة ورقبتى طويله واستطيع الحصول على طعامى من الشجرة مباشرة (.....)

- أنا اضخم الحيوانات أنفى طويل وذيلى قصير (.....)

• ضع دائرة حول الكائن الحي ومربع حول الغير حي :



• أجب على الاسئلة الاتية :



• مَنْ أمام علي ؟

• مَنْ خلف منه ؟

• مَنْ بين جنه ومنه ؟

• اكتب اسم الفصل (صيف - ربيع - شتاء)



صل الكائن بالشئ الذى يميزه للبقاء :

خياشيم




ريش




جلد



فرو



• صل :



• ضع علامه ✓ أمام السلوك الصحيح



• رقم دورة المياه :



• ارسم استخدامات اخرى للماء