

KOMIK POLITIK PEDAS BAWAH TANAH MALAYSIA

# Keeema<sup>1</sup>

TIADA HAK CIPTA. SEBARKAN UNTUK KEBAIKAN NEGARA KITA

JANUARI 2012



#### 4.8 — HUTANG DALAM NEGERI KERAJAAN PERSEKUTUAN<sup>1</sup>

Nilai semasa dalam RM juta

#### 4.8 — FEDERAL GOVERNMENT DOMESTIC DEBT<sup>1</sup>

Current value in RM million

	2006	2007	2008	2009	2010 <sup>2</sup>
<b>BIL PERBENDAHARAAN</b> <b>TREASURY BILLS</b>	<b>4,320</b> (-)	<b>4,320</b> (-)	<b>4,320</b> (-)	<b>4,320</b> (-)	<b>4,320</b> (-)
Institusi bank <i>Banking institutions</i>	1,667	1,591	1,557	1,769	1,664
Lain-lain <sup>3</sup> <i>Others<sup>3</sup></i>	2,653	2,729	2,763	2,531	2,656
<b>SIJIL PELABURAN<sup>1</sup></b> <b>INVESTMENT CERTIFICATES<sup>1</sup></b>	<b>19,600</b> (94.1)	<b>28,000</b> (42.9)	<b>42,500</b> (51.8)	<b>70,910</b> (66.8)	<b>74,500</b> (5.1)
<b>SEKURITI KERAJAAN</b> <b>GOVERNMENT SECURITIES</b>	<b>174,300</b> (5.0)	<b>191,700</b> (10.0)	<b>213,801</b> (11.5)	<b>242,270</b> (13.3)	<b>252,384</b> (4.2)
Sektor awam <sup>4</sup> <i>Public sector<sup>4</sup></i>	12,785	3,639	5,962	4,752	4,052
Kumpulan Wang Simpanan Pekerja <i>Employees Provident Fund</i>	97,968	103,258	95,881	92,764	94,614
Bank Simpanan Nasional <i>National Savings Bank</i>	3,391	3,250	3,237	3,715	3,630

MENGIKUT LAPORAN EKONOMI, KERAJAAN PUSAT (UMNO-BN) BERHUTANG PALING BANYAK PADA KWSP. MENURUT KWSP, KERAJAAN TELAH BERHUTANG SEJAK PENUBUHAN KWSP (1951). KWSP ITU WANG SIMPANAN RAKYAT JELATA SEMUA. SETIAP TAHUN RM90 BILION DIKEBAS UMNO-BN







UNTUK MELAYU ADA,  
UNTUK CINA ADA-  
UNTUK INDIA  
APA ADA?



KITA AKAN  
TAWAN BUMI  
SRI LANKA

KITA AKAN  
BEBASKAN KAUM  
INDIA DI SANA!



NAK DEKAT  
PRU13 NI,  
MACAM-MACAM  
DRAMA NAJIB



ANAK INDIA  
ANAK SAYA



YES TAMBI!




NAJIB KAU NI  
ORANG MELAYU  
KE INDIA?



ERK...








INI MERUPAKAN BENDERA SYARIKAT INDIA TIMUR INGGERIS. INI BUKANLAH BENDERA SESEBUAH NEGARA.

TETAPI IA MERUPAKAN BENDERA SYARIKAT ORANG PUTIH YANG MENIAGA KAPAS, SUTERA, NILA, GARAM BATU, TEH DAN CANDU (OPIUM).

KEKUATANNYA TERSELAH SEHINGGA MAMPU MENUBUHKAN KUASA KETENTERAAN DAN MENTADBIR INDIA SELAMA BERATUS TAHUN.



BENDERA ENGLAND DILETAK PADA BENDERA SYARIKAT TERSEBUT SEBAGAI TANDA HORMAT PADA QUEEN ELIZABETH I YANG BARU NAIKI TAKHTA KERAJAAN ENGLAND PADA KURUN KE-16



BENDERA GREAT BRITAIN DIMUATKAN PADA BENDERA SYARIKAT TERSEBUT SETELAH ENGLAND BERSATU DENGAN SCOTLAND PADA KURUN KE-17



SYARIKAT INDIA TIMUR INGGERIS JUGA BERNIAGA TEH DAN GARAM BATU DI AMERIKA PADA KURUN KE-17

KITA JUGA BIASA DENGAR SAJAK 'UNGBUN BERSIH' PAK SAMAD MENCERITAKAN PROTES CUKAI TEH PIMPINAN SAMUEL ADAMS DI BOSTON

BENDERA REVOLUSI AMERIKA INI DIGELAR 'BETSY ROSS' (NAMA TUKANG JAHITNYA).





CUBA PAPA TENGOK EXCEL PAPA

KAT TOL SAJA PAPA HABIS RM60 SEBULAN

SO, AIMAN LAH SOKONG PAKATAN RAKYAT LAH YA?

BULAN JANUARI 2012	
Barang dapur	150
Tol	60
Sekolah Aiman	20
Mama Shopping	300
Hutang Kereta	450
Hutang Rumah	500
Hutang Hantaran	





VICTORIA INSTITUTION (1893)



PERMAISURI VICTORIA  
(1837-1901)

SEKOLAH DI JALAN HANG TUAH  
INI DIBINA OLEH ORANG BRITISH DAN DI  
NAMAKAN BERSEMPENA DENGAN  
NAMA PERMAISURI MEREKA













INI DIA  
SARA 1MALAYSIA,  
WALAU PUN ADA  
1 BOTOL, ANDA  
KENA BEREPUT,  
SYUKURLAH

Penyertaan Sara 1Malaysia boleh dibuat mulai Isnin di empat bank  
**Siapa cepat, dia dapat...**

KITA DIAJAK BEREPUT-REPUT

SIAPA BAGI  
TUAN-TUAN?  
SIAPA YANG BAGI?  
HAAAAA---

BEG TANGAN  
HERMES BIRKIN  
MAHAL TU HANG PI  
REPUT DI MANA?  
HANG REPUT KA?  
ADA ORANG BAGI  
KAT HANG?

TANG RAKYAT,  
HANG SURUH DEPA  
BEREPUT, TANG  
HANG SENDIRI, LOK  
PAKAT SYOK PILIH  
SENDIRI JA, INSAFLAH  
KAK ROSMAH OI!  
HEHEH---













ROBIN HOOD ADALAH  
SEORANG PEROMPAK



ORANG UMNO JUGA ADALAH PEROMPAK



ROBIN HOOD ADA GENG PEROMPAK



ORANG UMNO JUGA ADA GENG PEROMPAK



ROBIN HOOD ROMPAK UNTUK RAKYAT



UMNO ROMPAK UNTUK DIRI SENDIRI





SEPERTI BIASA DOKTOR TUNJUK MACHO...



ISK!

KIRIM SALAM  
SAMA GUARD  
PENJARA YA?

HAHAHA!

SEMASA RANCANGAN BERJALAN...



BETULKAH  
DOKTOR AKAN KE  
PENJARA?

HAH?!

DOKTOR MACHO CUAK



BARU  
BERTANYA  
SIKIT LAH  
PANIK!

TAK APA LAH,  
KITA BERI  
DOKTOR REHAT  
DULU!











SEJAK DAHULU LAGI  
MANUSIA MAKAN NASI



TAK LAMA LAGI  
SEMUA ORANG  
AKAN MAKAN PIL  
SAJA!



PILIH!

MANUSIA MAKIN MODEN



KITA DAH SAMPAI ZAMAN ITU!



NENEK HAIRAN  
TENGOK KAMU NI!  
KAMU MAKAN PIL NI,  
KAMU SAKIT APA?

INILAH IMEJ MANUSIA MAKAN PIL MASAKINI.  
MEREKA MODEN & MELOMPAT RIANG!





KAK JAAAT!!!



IBRAHIM ALI!!!



DOSA SAYA  
MEMPERMAINKAN  
LEMBU!



NAJIB!!!













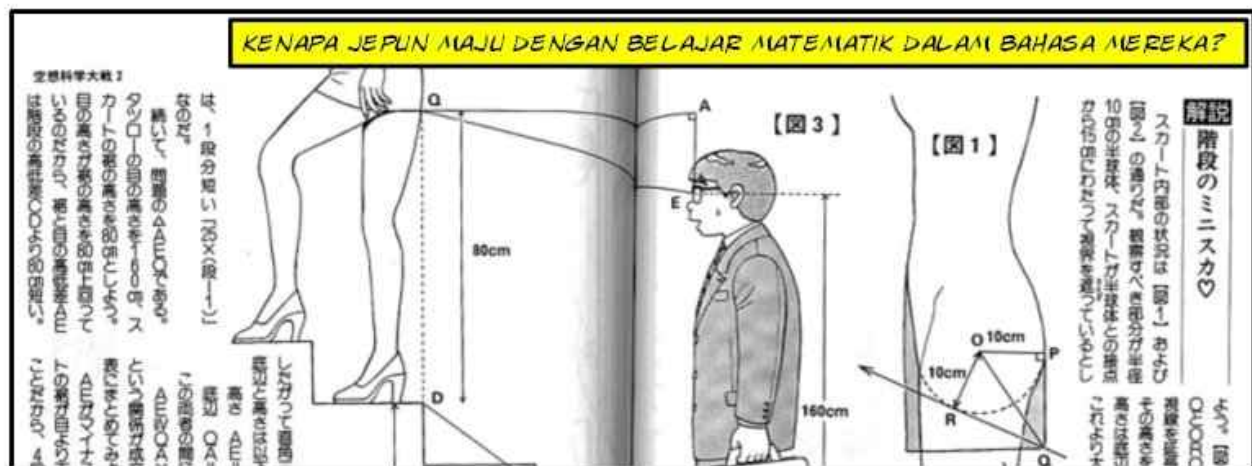
INILAH DOSA MAHATHIR, MELAKSANAKAN PPSMI TANPA MENGIRA HASRAT MAJORITI PENDUDUK DI MALAYSIA- KENAPA TAK ADA WARGA MELAYU? APAKAH INI SATU LAGI BENIH 13 MEI?



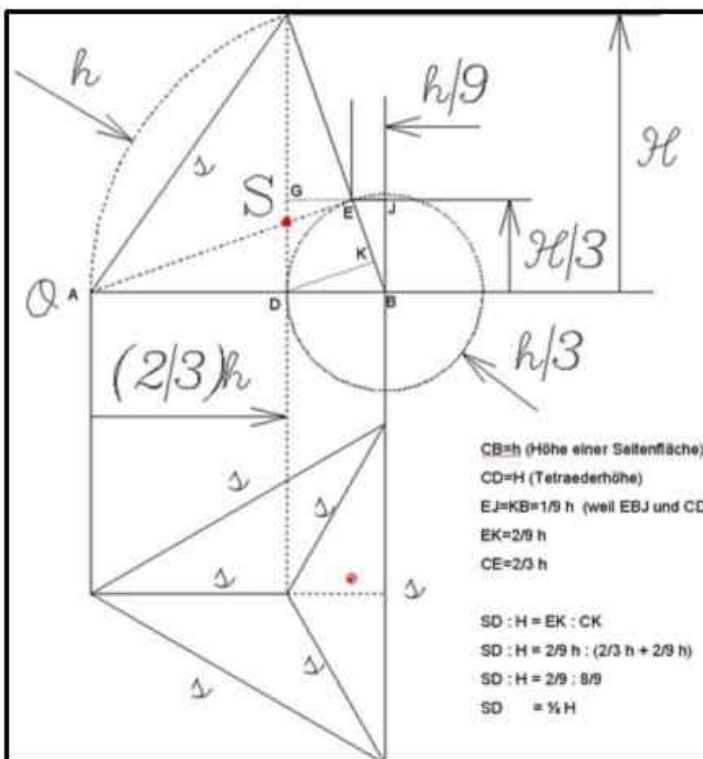
PENYOKONG PPSMI, MENDAKWA DAPAT KUMPUL 12,000 PUCUK SURAT PETISYEN




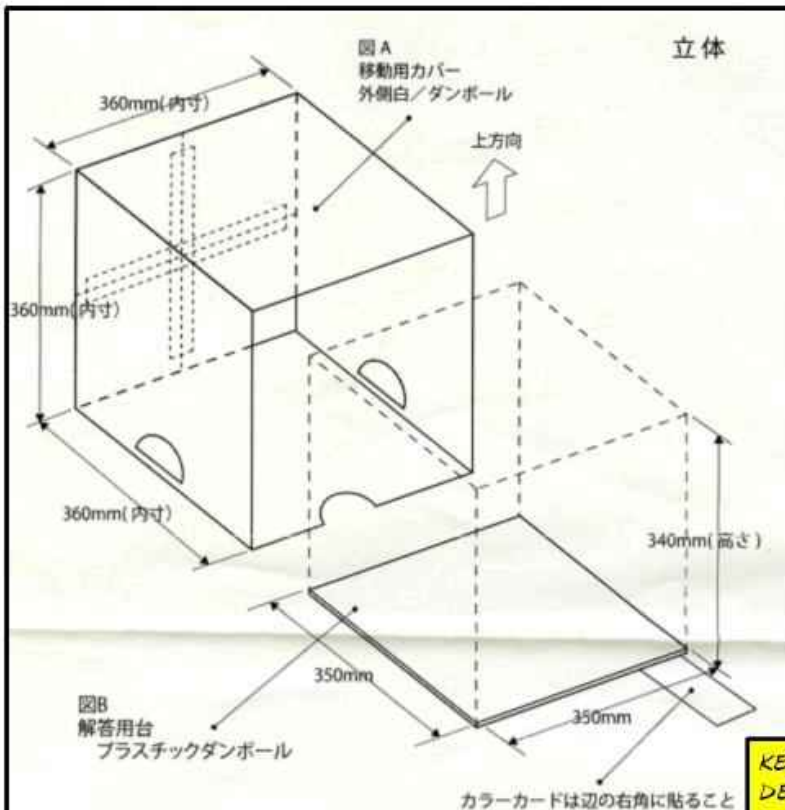
BANTAHAN TERHADAP PPSMI, RATUSAN RIBU PESERTA BERKUMPUL DI K.L.



KENAPA JEJUN MAJU DENGAN BELAJAR MATEMATIK DALAM BAHASA MEREKA?



KENAPA ORANG JERMAN BOLEH MAJU DENGAN BELAJAR MATEMATIK DALAM BAHASA MEREKA SENDIRI?



KENAPA ORANG JEPUN BOLEH MAJU DENGAN BELAJAR MATEMATIK DALAM BAHASA MEREKA SENDIRI?



# 새학년 진단 평가

초등학교 5학년 ( )반 ( )번 이름 ( )

시도.

구: ( )

( )

( )

를 차례로 쓴 것은 어느 것  
.....( )



6. 다음 삼각형은 변  $7\text{cm}$ 과 변  $7\text{cm}$ 의 두 변의 길이가 같습니다. 각  $\angle A$ 의 크기를 구하십시오



8. 다음은 삼각형의 세 각의 크기를 나타낸 것입니다. 예각삼각형은 어느 것입니까?.....( )

- ①  $90^\circ, 30^\circ, 60^\circ$
- ②  $80^\circ, 130^\circ, 20^\circ$
- ③  $140^\circ, 25^\circ, 15^\circ$
- ④  $105^\circ, 45^\circ, 30^\circ$
- ⑤  $60^\circ, 60^\circ, 70^\circ$

KENAPA ORANG KOREA BOLEH MAJU DENGAN BELAJAR MATEMATIK DALAM BAHASA MEREKA SENDIRI?



SMK RAJA PEREMPUAN, IPOH  
MODUL CEMERLANG 2008/2009

Tingkatan: 4

matik

$y^2 =$

$-3x^2 + 4xy$

$-3x^2 + 2y^2 - 4xy$

$\frac{-4}{n}$  as a single  
simplest form.

C.  $\frac{m-4}{6m}$

D.  $\frac{m+4}{6m}$

$(4+h) = k$ , express  $h$  in

C.  $h = \frac{5k}{1-k}$

D.  $h = \frac{2k+4}{2}$

7. Given that  $2h = h + 3$ , then  $h =$   
A. 1 C. 3  
B. 2 D. 4

8. Given that  $5(2q-7) - (3-4q) = 4$ , then the value of  $q$   
A. 7 C.  $\frac{7}{3}$   
B. 3 D. 1

9. Find the solution of the inequality  $5-h \leq 2$ .  
A.  $h \geq 3$  C.  $h < -4$   
B.  $h > 4$  D.  $h \leq 3$

10. Find all the integers  $x$  that satisfy inequalities  $x < 7$  and  $13-4x \leq$   
A. 4,5,6 C. 5,6,7  
D. 4,5,6,7

KENAPA ORANG KITA TAK BOLEH MAJU DENGAN BELAJAR MATEMATIK DALAM BAHASA INGGERIS/SENDIRI?















[www.1malaysia.com.my](http://www.1malaysia.com.my)

## Don't miss any updates from Mohd Najib Tun Razak

Get your account on Twitter today to stay up-to-date with what interests you!

[Sign up »](#)

Text follow [NajibRazak](#) to 40404 in the United States



**@NajibRazak**

Mohd Najib Tun Razak

Saya terpaksa tolak pelawaan Datuk Seri Anwar untuk berdebat kerana saya terpaksa teman isteri saya shopping di Paris. Harap Maklum!

27 Jan via [Twitter for BlackBerry®](#)

Retweeted by [Smiler\\_Muzzaina](#) and 74 others





Don't miss any updates from Ahmad Maslan

Get your account on Twitter today to stay up-to-date with what interests you!

Sign up »

 Text follow [ahmadmaslan](#) to 40404 in the [United States](#)



[@ahmadmaslan](#)

Ahmad Maslan

Isteri saya melarang saya daripada berdebat dengan sesiapa. Katanya, kalau kalah debat. Malu muka satu keluarga.

3 hours ago via [twitterfeed](#)











# Melayu diingatkan jangan terpedaya helah DAP - Muhyiddin

27/01/2012 6:53pm

PUTRAJAYA 27 Jan. - Orang Melayu diingatkan jangan sesekali terpedaya dan terperangkap dengan tipu helah DAP yang memang sejak penubuhan parti itu, ia langsung tidak pernah memperjuangkan kepentingan orang Melayu.

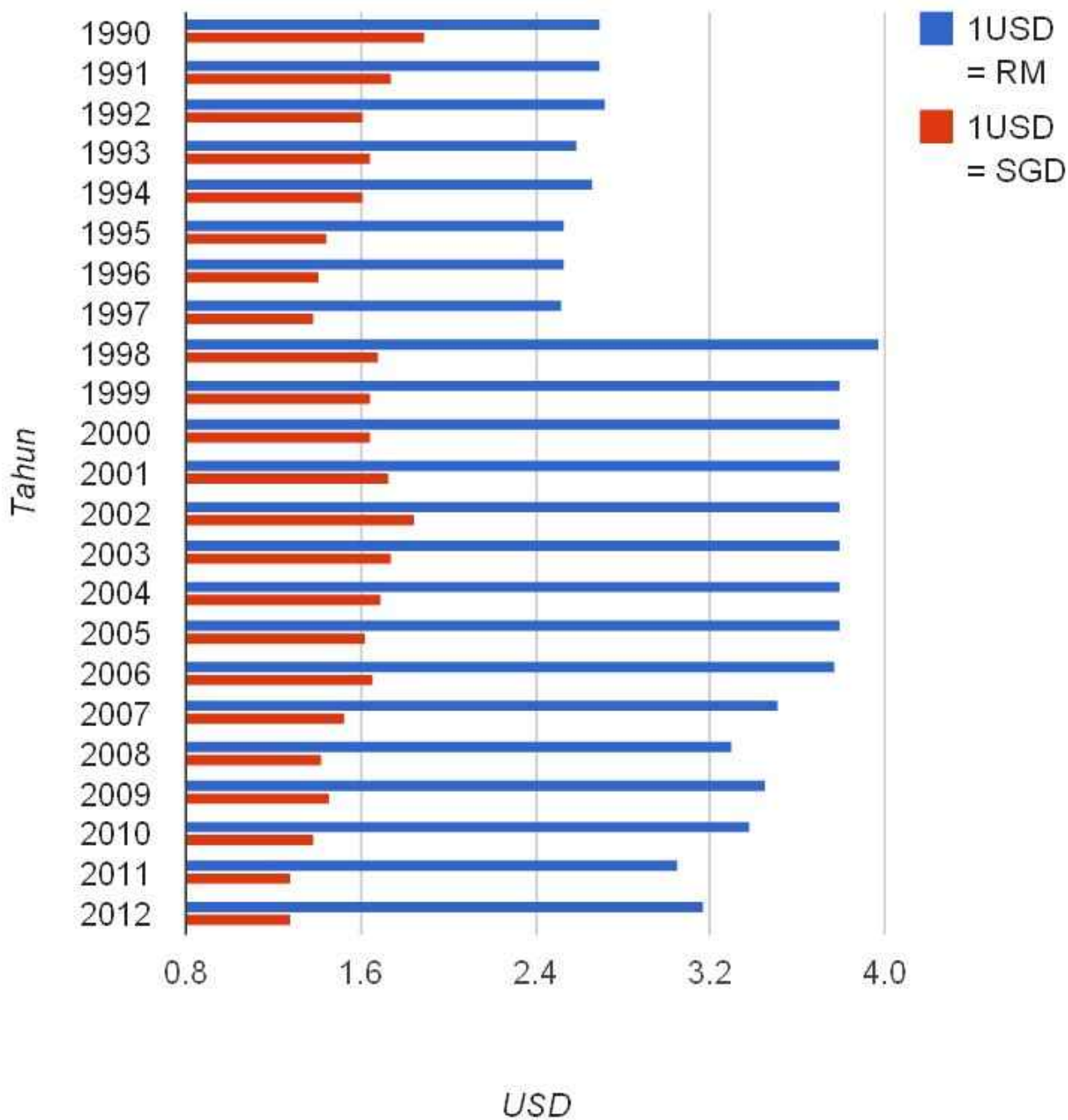
Ingatan itu disuarakan Timbalan Perdana Menteri, Tan Sri Muhyiddin Yassin kerana menurut beliau, kerana apa jua tindakan parti itu hanyalah helah semata-mata demi untuk menarik







# Kejatuhan RM & SGD Berbanding USD Sejak Tahun 1990-2012



**asiaone education**

SINGAPORE | MALAYSIA | ASIA | WORLD | BUSINESS | CRIME | SHOW

HOME THE STRAITS TIMES THE BUSINESS TIMES THE NEW PAPER

>> ASIAONE / NEWS / EDUCATION / STORY

**EDUCATION**



Thu, Jun 17, 2010  
AsiaOne

Print-friendly

## Jet Li moved to Singapore for kids' education

SHANGHAI - Jet Li, 41, was interviewed with an ent

**JET LI SANGGUP KE SINGAPURA DEMI PENDIDIKAN ANAKNYA**

**International educational scores (latest, 2007)**  
(8th graders average score, TIMSS  
International Math and Science Study, 2007)

Countries: (sample)	Global rank	Maths		Science	
		Rank	Score	Rank	Score
Singapore	1	3	593	1	567
Taiwan	2	1	598	2	561
South Korea	3	2	597	4	553
Japan	4	5	570	3	554
Hong Kong	5	4	572	9	530
Hungary	6	6	517	6	539

**MUNGKIN JET LI SUDAH KAJI HABIS-HABIS MENGENAI PENDIDIKAN DI SINGAPURA!**





INILAH SHARD LONDON BRIDGE, MENARA  
TERTINGGI DI U.K YANG AKAN SIAP PADA  
MEI 2012, BERNILAI RM2 BILION



308 METER



452 METER

U.K MAJUKAN EKONOMI  
SEBELUM NAIKKAN MENARA,  
KITA TERBALIK. SEBAB ITU  
NEGARA KITA MUNDUR

ANDA ADA  
RM5.00?



BAWA KE U.K  
ANDA DAPAT  
£1 SAHAJA!



Käyrän  $\Gamma_1$  yhtälö on  $x^2 = y^2 - y^4$ , käyrän  $\Gamma_2$  parametrisitys on

$$\begin{cases} x = \frac{3}{4} \cos t - \frac{1}{4} \cos 3t \\ y = \frac{3}{4} \sin t - \frac{1}{4} \sin 3t, \quad t \in \mathbb{R} \end{cases}$$

ja käyrän  $\Gamma_3$  yhtälö napakoordinaateissa on  $r = \sin(\pi + 3\varphi)$ .



(a)



(b)



(c)



(d)



(a) Mikä oheisista kuvista esittää käyrää  $\Gamma$

KENAPA ORANG FINLAND BOLEH BELAJAR MATEMATIK SECARA PERCUMA DALAM BAHASA MEREKA, SEHINGGA BOLEH CIPTA BERJUTA-JUTA TELEFON NOKIA?

http://panitia-mat...  
SEKOLAH MENENGAH SAINS LABUAN

PRE AUGUST TEST 1

[60 marks]

$-3(16 + 64 \div 8)$   
[2 marks]

6.

(a) Construct a quadrilateral,  $PQRS$  beginning from the straight line  $PQ$  below such that  $\angle PQR = 90^\circ$ ,  $\angle SPQ = 60^\circ$ ,  $QR = 2.5\text{cm}$  and  $RS = 2\text{cm}$

(b) Based on the diagram constructed measure the length of  $QS$

[6 marks]



KENAPA ORANG MALAYSIA TAK BOLEH BELAJAR MATEMATIK SECARA PERCUMA DALAM BAHASA INGGERIS/MALAYSIA DAN MAJU MACAM FINLAND?

KITA ADA RM 4.10?



BAWA PERGI FINLAND? DAPAT 1 EURO SAJA!





KELANTAN TELAH CETAK SYILING EMAS DAN PERAK TAPI TAK BOLEH DIPERLAKUKAN



TAK BOLEH!  
DUIT KERTAS  
SAJA LAKU!

GABERNOR BANK NEGARA MALAYSIA



MALAYSIA  
NEGARA  
ISLAM!

KITA ADA  
BANK ISLAM,

KITA ADA  
DR. HAJI  
HASAN ALI



TIBA-TIBA ISRAEL CETAK SYILING  
EMAS DAN IA SAH DIPERLAKUKAN

WANG  
KERTAS ITU  
RIBA!

ISRAEL AKAN  
KUASA DUNIA  
DENGAN MATAWANG  
BARU!

SHEIKH IMRAN HOSEIN

